

# LEMBAR KERJA PESERTA DIDIK

DISUSUN OLEH:

Asri Sabrina (06031382126059)

DOSEN PEMBIMBING

Deskoni, S.Pd., M.Pd.

Dewi Pratita, S.Pd., M.Pd.

## Tujuan Pembelajaran

- Melalui membaca dan menyimak video kamu dapat menyebutkan berbagai kegiatan produksi, distribusi dan konsumsi pelaku-pelaku ekonomi: Rumah Tangga Konsumsi, Rumah Tangga Produksi, Pemerintah, dan Masyarakat Luar Negeri

## Capaian Pembelajaran

- Menjelaskan pengertian pelaku ekonomi secara umum.
- Menyajikan jenis-jenis pelaku ekonomi.
- Mengidentifikasi peran dari pelaku ekonomi

## PETUNJUK MENERJAKAN LKPD

1. Berdoalah sebelum memulai mengerjakan LKPD.
2. Lakukan setiap langkah kerja yang ada pada E-LKPD dengan hati-hati.
3. Setiap soal dalam E-LKPD sudah dilengkapi dengan langkah-langkah pengerjaannya.
4. Kerjakan dengan penuh tanggung jawab dan disiplin.
5. Jika ada yang belum dipahami, dapat ditanyakan kepada guru.
6. Jika telah selesai mengerjakan, kalian bisa mengumpulkan hasil E-LKPD yang sudah lengkap sesuai dengan pada link pengerjaan yang diberikan oleh guru.




# LKPD

## Pelaku Ekonomi




Perhatikan materi Video berikut ini!



Perhatikan materi berikut ini!



Silahkan memahami bahan bacaan berikut!







# LKPD

## Pelaku Ekonomi



1

Isilah jawaban atas pertanyaan yang telah diberikan dengan lengkap dan jelas!

Sebutkan siapa saja yang termasuk ke dalam pelaku dari kegiatan ekonomi!

2

Pilihlah jawaban yang sesuai dan benar!

Yang bukan termasuk pelaku ekonomi dalam perekonomian empat sector adalah?

3

Pilihlah jawaban yang benar!

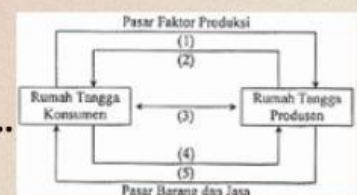
Berikut ini yang merupakan kegiatan distribusi adalah....



4

Pilihlah salah satu jawaban yang benar!

Berdasarkan bagan di samping yang merupakan adanya penawaran barang dan jasa adalah nomor....

 1 3 5 2

5

Temukan 4 Pelaku Ekonomi dalam teka-teki berikut!

P	E	M	E	R
O	Z	L	R	I
I	U	N	T	N
R	T	K	P	T
E	L	B	H	A



# LKPD

## Pelaku Ekonomi



6

Silahkan menyebutkan jawabannya dengan cara mengklik microphone di bawah ini!


Penerimaan yang diterima RTK yaitu :

sewa, upah, bunga modal dan laba



7

Dengarkan suara berikut dan berikan jawabannya!



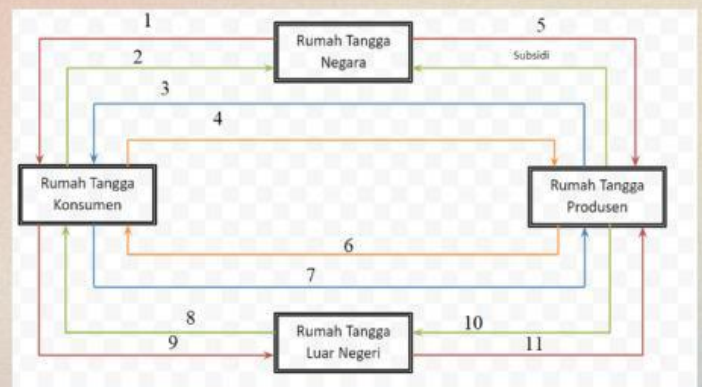
8

Jawablah soal berikut dengan mendrag lalu tempelkan jawaban tersebut dengan mendrop pada kotak!



Hubungan antara RTK dan RTP pada garis warna merah adalah...

Perhatikan gambar siklus pelaku ekonomi, untuk nomer 8 dan 9 adalah...



arus uang/imbalan

impor dan pembayaran devisa





9

Amati gambar kegiatan ekonomi dibawah kemudian tarik gambar berikut ke dalam kotak yang sesuai!



Konsumsi



Produksi



Distribusi