

Números de 4 cifras

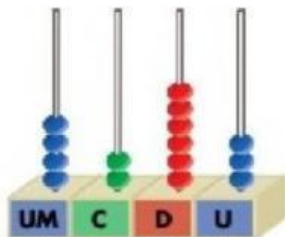
Completa.

| NÚMERO ANTERIOR | NÚMERO | NÚMERO POSTERIOR |
|-----------------|--------|------------------|
| | 2.600 | |
| 1.888 | | |
| | | 3.020 |
| | 8.000 | |


Escribe el mayor y el menor número de 4 cifras que se pueden formar con estas cifras:

Número mayor → Número menor →

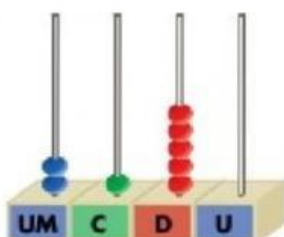
Escribe con cifras y con letras los números representados.



→ _____



→ _____



→ _____