


# LKPD

## MENGURUTKAN BILANGAN DESIMAL

3,14

TIGA KOMA SATU EMPAT




MATH WITH MS.ANA

 @matemanatika



# MENGURUTKAN & MEMBANDINGKAN BILANGAN DESIMAL



Tonton dan simak lagi video berikut ini ya!




Ingat lagi arti lambang berikut !!



Lebih **>**esar




Lebih **<**ecil



Sama dengan



## MEMBANDINGKAN DAN MENGURUTKAN BILANGAN DESIMAL



- 1 Berilah tanda  $>$  (lebih dari) ,  $<$  (kurang dari), atau  $=$  (sama dengan) yang tepat untuk melengkapi titik-titik dibawah ini!

21,9 ... 19,02

- 2 Bilangan desimal berikut yang nilainya paling besar adalah ...

☐ 10,23

☐ 12,7

☐ 10,1

☐ 12,30

- 3 Tariklah garis pada soal berikut ke tanda perbandingan yang tepat!

28,1 ... 28,10

$<$

99,99 ... 99,09

$>$

23,20 ... 23,3

$=$

- 4 Urutkanlah bilangan desimal berikut dari yang terbesar ke terkecil! (Geser angka berikut pada posisi yang tepat!)



- 5 Perhatikan daftar berat badan keempat anak dibawah ini!



Jika mereka berempat akan berbaris dari kiri ke kanan sesuai ukuran berat badan terbesar hingga terkecil, maka urutan barisannya adalah ...

.....