

TEMA 3


# Makanan Sehat

PENTINGNYA MAKANAN SEHAT  
BAGI TUBUH



# Berkelompok

**AYO MEMBENTUK SEBUAH  
KELOMPOK**




# IKLAN' ELEKTRONIK

**iklan 1**

**iklan 2**

# IKLAN' ELEKTRONIK

**iklan 3**



**iklan 4**



# IKLAN' ELEKTRONIK

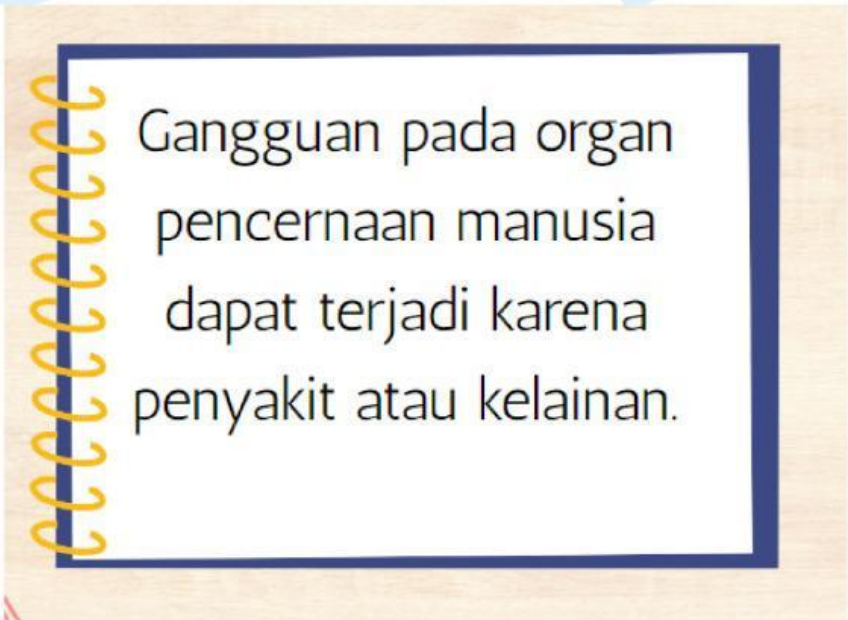
- Membuat Iklan elektronik menggunakan perekam HP dengan maksimal durasi 1 menit (berkelompok).
- Masing-masing kelompok mengirimkan video iklan yang sudah dibuat ke laptop milik guru melalui *Barcode*.
- Kelompok menampilkan hasil video iklan yang telah dibuat menggunakan LCD Proyektor

Kirim ke Grup Whatsapp

SCAN BARCODE BERIKUT INI



# GANGGUAN ORGAN PENCERNAAN



Gangguan pada organ pencernaan manusia dapat terjadi karena penyakit atau kelainan.

# GANGGUAN ORGAN PENCERNAAN

**Tahukah kamu, bahwa**

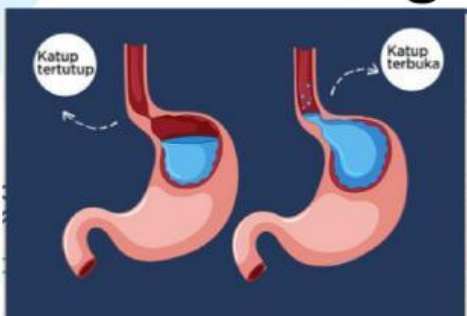
Gangguan pada organ pencernaan manusia dapat terjadi karena penyakit atau kelainan.

# GANGGUAN ORGAN PENCERNAAN

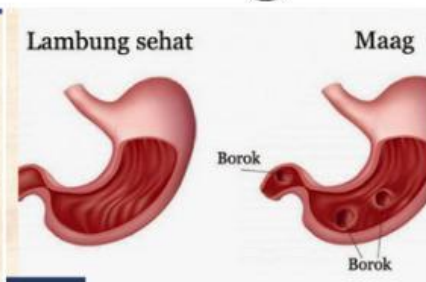
Perhatikan gambari berikut

**BEBERAPA PENYAKIT ORGAN PENCERNAAN**

asam lambung



Maag



sariawan



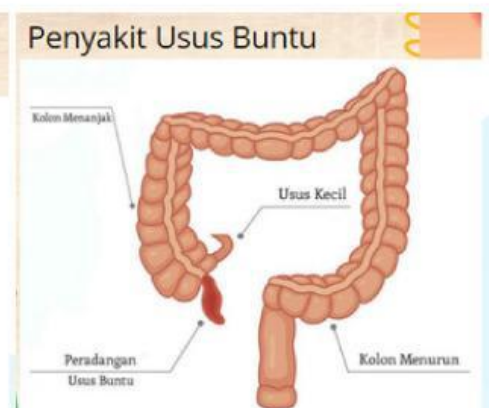
Sakit Gigi



Sembelit



Penyakit Usus Buntu



# GANGGUAN ORGAN PENCERNAAN

- Membuat poster secara berkelompok berdasarkan gambar yang telah disediakan,
- Mencari informasi penyakit meliputi: ciri-ciri, penyebab, gejala, pengobatan dan pencegahannya menggunakan gadget.
- Sertakan informasi yang diperoleh ke dalam poster yang telah dibuat.
- Secara berkelompok siswa mempresentasikan hasil poster yang sudah mereka kerjakan bersama kelompok, kemudian dipoto dan dikirim ke grup whatsapp melalui barcode di bawah ini.

Kirim ke Grup Whatsapp

SCAN BARCODE BERIKUT INI



Nama: \_\_\_\_\_



kelas: \_\_\_\_\_

**BERILAH TANDA SILANG (X) DI DEPAN HURUF A,B, C, ATAU D  
DI DEPAN JAWABAN YANG BENAR!**




1. Dibawah ini adalah jenis-jenis iklan elektronik, kecuali....
  - a. Iklan Komersial
  - b. Iklan koran
  - c. Iklan layanan masyarakat
  - d. Iklan perusahaan
2. Iklan juga dapat disampaikan melalui media cetak. Iklan cetak ada dua jenis yaitu....
  - a. Iklan televisi dan koran
  - b. Iklan kolom dan iklan radio
  - c. klan kolom dan iklan video
  - d. Iklan baris dan iklan kolom
3. Berikut ini yang merupakan ciri khas iklan di radio adalah ....
  - a. Iklan hanya dapat di dengar
  - b. Hanya menggunakan tulisan saja
  - c. Menggunakan gambar audio visual
  - d. Menggunakan gambar dan beberapa kalimat
4. Kalimat pada iklan yang digunakan untuk mempengaruhi pembaca disebut ....
  - a. kalimat aktif
  - b. kalimat persuasif
  - c. kalimat pasif
  - d. kalimat argumentatif

5. Perhatikan gambar iklan berikut!

Dijual sgr mtr Hnda Beat mrh 2010. Knds bgus.  
10jt Ng. Hub. Wahyu HP 012345678910.

Iklan media cetak di atas termasuk ke dalam jenis iklan ....

- a. baris
- b. kolom
- c. display
- d. advertorial



6. Perhatikan gambar iklan berikut!



Berdasarkan isinya, gambar di atas termasuk jenis iklan ....

- penawaran barang
  - permintaan barang
  - penawaran jasa
  - permintaan jasa
7. Buang air besar dengan tinja encer atau berair dengan frekuensi lebih sering dari biasanya disebut....
- diare
  - typus
  - dehidrasi
  - kram perut
8. Cara mencegah penyakit maag yang tepat adalah....
- banyak mengonsumsi makanan yang mengandung vitamin C
  - selalu makan tepat waktu
  - banyak minum air putih
  - rajin berolahraga
9. Gejala-gejala sakit maag adalah....
- demam tinggi, tubuh menggigil, lemah, dan mual
  - tubuh demam dan perut kanan bawah terasa nyeri
  - rasa perih di dinding lambung dan perut kembung
  - diare yang biasanya disertai muntah
10. Bakteri yang dapat menyebabkan penyakit tipus adalah....
- Clostridium tetani
  - Vibrio Cholerae
  - Salmonella thypi
  - Streptococcus Pneumoniae

