


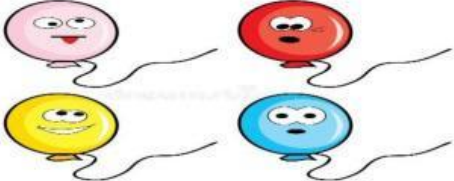


Une con una línea el número de objetos con el numero que le corresponde

<p>1 JOING 1</p>	<p>JOING 3</p>  <p>setyimages Credit: matelma</p>
<p>2 JOING 2</p>	<p>JOING 1</p> 
<p>3 JOING 3</p>	<p>JOING 2</p> 
<p>4 JOING 4</p>	 <p>JOING 4</p>

Palomea " si o no" según la respuesta correcta

¿Su vestido es rojo?



Si
TICK:YES

NO
TICK:NO

¿son ojos son color azul?



NO
TICK:NO

Si
TICK:YES

¿El niño tiene gorra?



NO
TICK:NO

Si
TICK:YES

Responde las preguntas de forma correcta

¿Menciona cinco figuras geométricas?

Selección: respuesta libre

¿Menciona la fórmula para sacar el perímetro del cuadrado?

Selección: respuesta libre

¿Menciona la fórmula para sacar el área del cuadrado?

Selección: respuesta libre

Un polígono de 6 lados se llama:

A) Cuadrilátero select: no

B) Heptágono select: no

C) Hexágono select: yes

Un ángulo de 90° se llama:

A) Agudo select: no

B) Recto select: yes

C) Obtuso select: no

El ángulo de 315 grados se llama:

A) Obtuso select: yes

B) Extendido select: no

C) Recto select: no

