



โจทย์ปัญหาการคูณ


วิเคราะห์โจทย์ปัญหา เขียนประโยคสัญลักษณ์ และหาคำตอบ

แม่ปลูกมะละกอ 60 ต้น ปลูกเป็นแถว แถวละ 12 ต้น แม่ปลูกมะละกอทั้งหมดกี่แถว




ตอบ แม่ค้าขายปลาทั้งหมด.....แถว

ภูผาจัดเก้าอี้ 45 ตัว จัดเป็นแถว แถวละ 9 ตัว ภูผาจัดเก้าอี้ทั้งหมดกี่แถว



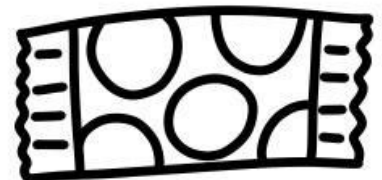
ตอบ ภูผาจัดเก้าอี้ทั้งหมด.....แถว

ลุงมีจัดขวด 80 ขวดลงในกล่อง กล่องละ 12 ขวด ลุงมีจัดขวดได้ทั้งหมดกี่กล่อง



ตอบ ลุงมีจัดขวดได้ทั้งหมด.....กล่อง

ไบตองซื้อขนม 10 ห่อ ราคาห่อละ 7 บาท ไบตองจ่ายเงินทั้งหมดกี่บาท



ตอบ ไบตองจ่ายเงินทั้งหมด.....บาท