

SOAL EVALUASI

Satuan Pendidikan : SD Negeri Purwoyoso 01

Kelas / Fase : II (Dua) / A

Mata Pelajaran : Matematika

Nama :


Kelas : II (Dua)

No. Presensi :

A. Isian Singkat


Jawablah pertanyaan berikut dengan benar!

1. Tentukan hasil pengukuran panjang benda berikut!




- ☐ Panjang buku = klip kertas
 - ☐ Panjang pensil = klip kertas
 - ☐ Panjang gunting = klip kertas
2. Jawablah pertanyaan berikut berdasarkan soal nomor 1.
- a) Antara buku dan gunting, yang lebih panjang adalah
 - b) Antara pensil dan gunting, yang lebih pendek adalah
 - c) Urutan benda dari yang terpanjang adalah


3. Tentukan panjang benda-benda berikut ini!



Panjang pensil = cm.

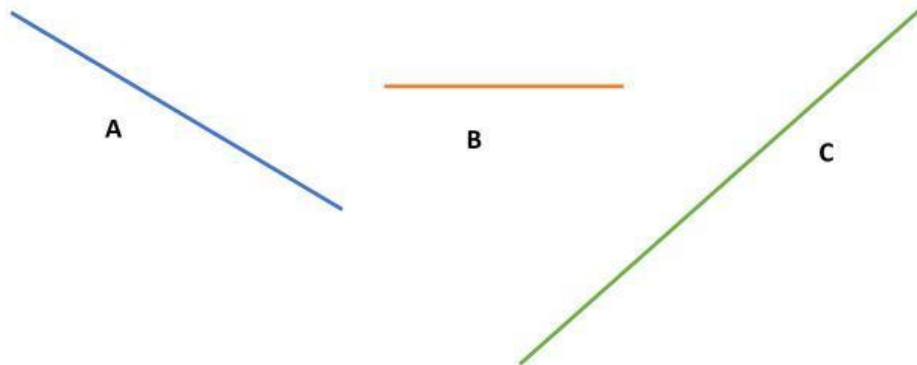


Panjang krayon = cm.



Panjang gunting = cm.

4. Jawablah pertanyaan berikut berdasarkan soal nomor 3.
 - a) Antara pensil dan krayon, yang lebih panjang adalah
 - b) Antara pensil, dan gunting, yang lebih pendek adalah
 - c) Urutan benda dari yang terpendek adalah
5. Ukurlah panjang ketiga garis berikut menggunakan penggaris.



Jawablah berdasarkan hasil pengukuran tersebut.

- a. Panjang garis A adalah
- b. Panjang garis B adalah
- c. Panjang garis C adalah
- d. Garis yang terpanjang adalah
- e. Urutan ketiga garis dari yang terpanjang adalah