



Числа записують за допомогою десяти цифр:

0, 1, 2, 3, 4, 5, 6, 7, 8, 9.

1

На малюнку зображено арифметичні штанги.
Познач найдовшу та найкоротшу штангу.



Полічи смужки в кожній штанзі.
Скільки смужок у найдовшій штанзі?

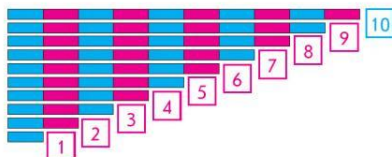
1 2 3 4 5 6 7 8 9 10

Скільки смужок у найкоротшій штанзі?

1 2 3 4 5 6 7 8 9 10

2

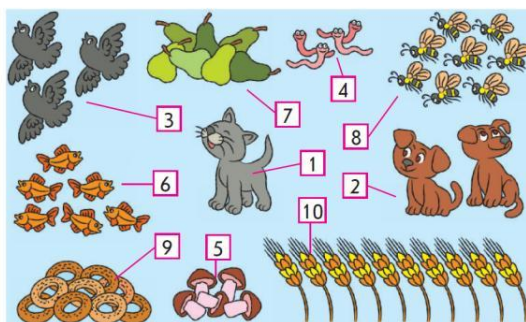
Перевір, чи правильно поклали кожен картку з числом.



3

Перевір, чи відповідає кількість зображених об'єктів числу.

Познач правильні картки з числами.



4

Дай відповіді на запитання



Що змінилося?
форма
розмір
колір

Скільки об'єктів?

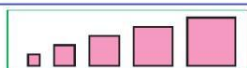
1 2 3 4 5 6 7 8 9 10



Що змінилося?
форма
розмір
колір

Скільки об'єктів?

1 2 3 4 5 6 7 8 9 10



Що змінилося?
форма
розмір
колір

Скільки об'єктів?

1 2 3 4 5 6 7 8 9 10



Що змінилося?
форма
розмір
колір

Скільки об'єктів?

1 2 3 4 5 6 7 8 9 10