



PEMERINTAH KABUPATEN SINJAI
DINAS PENDIDIKAN
SD NEGERI 68 MANIPI KEC. SINJAI BARAT

Jl. Lembah Harapan Manipi Kel. Tassililu, Kec. Sinjai Barat ✉ 92653 Manipi

SUMATIF TENGAH SEMESTER (STS)

Mata Pelajaran : SENI BUDAYA
Kelas/ Smt : IV (Empat)/ Ganjil
Tahun Pelajaran : 2023/2024

Nama Siswa :

A. PILIHAN GANDA

Jawablah pertanyaan di bawah ini dengan member tanda silang (x) pada pilihan jawaban yang paling benar!

1. Perhatikan gambar berikut untuk menjawab soal nomor 1-2!



Berdasarkan gambar tersebut ,jenis gambar ,jenis gambar tersebut adalah gambar...

- A. Satu dimensi
- B. Dua dimensi
- C. Tiga dimensi
- D. Empat dimensi

2. Perhatikan gambar berikut !



Berdasarkan gambar tersebut ,tekstur pada gambar dibuat dengan tehnik...

- A. Tempel
- B. Grattage
- C. Frottage
- D. Swirling

B. PILIHAN GANDA KOMPLEKS

3. Perhatikan gambar berikut!



Berdasarkan gambar tersebut, tentukan pernyataan benar atau salah dengan memberi tanda centang pada kolom yang disediakan!

Pernyataan	Benar	Salah
Tumpukan kayu merupakan tekstur nyata		
Tumpukan kayu merupakan tekstur semu Merupakan tekstur semu dengan teknik ebru		
Memiliki nilai atau kesan yang sama ketika dilihat dan diraba		

4. Perhatikan gambar berikut!



A



B



C




D

Berdasarkan gambar tersebut, berilah tanda centang pada kolom benar atau salah tentang contoh jenis Tekstur!

Pernyataan	Benar	Salah
Gambar A contoh tekstur nyata		
Gambar B contoh tekstur semu		
Gambar C contoh tekstur semu		
Gambar D contoh tekstur nyata		

C. Menjodohkan

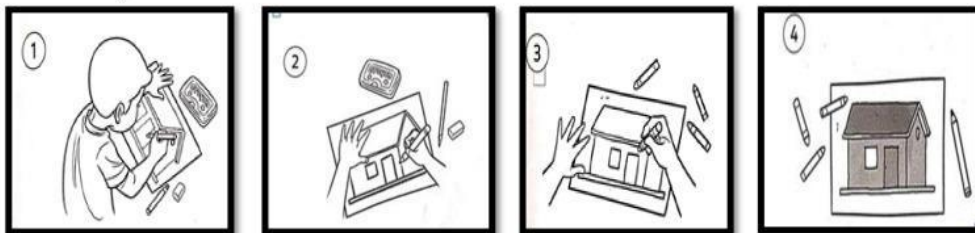
5. Perhatikan gambar berikut !



Berdasarkan gambar, pasangkanlah gambar dengan teknik tekstur yang tepat

Gambar		Tehnik tesktur	
a	●	●	Frottage
b	●	●	Ebru/swirling
c	●	●	Grattage
d	●	●	Tempel

6. Perhatikan gambar berikut!



Berdasarkan gambar tersebut, pasangkanlah gambar yang sesuai dengan langkah-langkah menggambar rumah

Gambar		Langkah-langkah	
a	●	●	Gambar rumah sudah jadi
b	●	●	Tebalkan sketsa gambar
c	●	●	Buatlah sketsa gambar
d	●	●	Berilah warna agar gambar tampak menarik

D. ISIAN SINGKAT

Isilah titik-titik berikut ini dengan jawaban yang tepat !

7. Perhatikan gambar berikut!



Jenis bunyi yang dihasilkan berdasarkan...

8. Perhatikan gambar berikut!



Kaleng Cat Warna Foto Stok -


Buka

Benda tersebut digunakan dalam tehnik...

E. URAIAN

Jawablah pertanyaan berikut dengan tepat!

9. Perhatikan gambar berikut untuk menjawab soal nomor 9-10!



Berdasarkan gambar tersebut,,tuliskan alat dan bahan untuk membuat tekstur tersebut!

Jawaban :

.....

.....

.....

.....

.....

10. Berdasarkan gambar tersebut,tulislah langkah-langkah pembuatan tekstur tersebut!

Jawaban :

.....

.....

.....

.....

.....