



SOAL PENILAIAN TENGAH SEMESTER

TAHUN PELAJARAN 2023/2024

Tema : 2. Udara Bersih Bagi Kesehatan Nama :
Alokasi Waktu : 90 Menit Kelas :

A. PILIHAN GANDA

Berilah tanda silang pada huruf A, B, C, dan D di depan jawaban yang tepat !

1. Manusia bernafas untuk memasukkan udara ke dalam tubuh. Udara mengandung oksigen. Oksigen dibutuhkan untuk mendapatkan energi dari makanan. Energi itu menggerakkan semua proses kehidupan yang sangat penting pada tubuh, Organ pernafasan manusia terdiri atas hidung, faring, laring, trakea, bronkus, bronkialus, dan paru-paru (alveolus)

Perhatikan gambar berikut!



Gambar yang ditunjukkan oleh tanda panah adalah

- A . laring
B. trakea
C. bronkus
D. bronkiolus
2. Kegiatan ekonomi adalah semua kegiatan yang dilakukan manusia untuk memenuhi kebutuhan hidupnya. Kegiatan ekonomi dilakukan dengan memanfaatkan sumber daya alam. Sebagai negara kepulauan, Indonesia dikarunia sumber daya alam yang melimpah. Oleh karena itu kita harus mensyukuri dan memanfaatkannya dengan bijak. Pemanfaatan sumber daya alam tersebut dapat dilihat pada berbagai bidang usaha.

Yang termasuk jenis-jenis usaha ekonomi masyarakat di bawah ini adalah

- A. Mengolah sampah, berlayar, berobat ke dokter, poskamling dan pengelolah jasa penginapan
B. Pertanian, peternakan, perikanan, pertambangan, kehutanan, perdagangan dan perindustrian
C. Menebang pohon, memasak, membeli barang, dan memelihara hewan
D. Membantu orang tua, menanam pohon sekolah, dan berwisata

3. Tangga nada merupakan susunan berjenjang, misalnya do, re, mi, fa, sol, la, si, do. Dalam seni musik ada jenis tangga nada diatonis. Tangga nada diatonis terdiri atas delapan nada. Tangga nada diatonis terdiri atas delapan nada. Tangga nada diatonis dibagi lagi dalam dua jenis tangga nada, yaitu tangga nada mayor dan tangga nada minor. Tangga nada diatonis yang susunan nada-nadanya berjarak $1 - \frac{1}{2} - 1 - 1 - \frac{1}{2} - 1 - 1$ disebut tangga nada

- A. mayor
- B. minor
- C. kromatis
- D. pentatonis

4.

PERNAPASAN PADA HEWAN




Seperti manusia, hewan juga bernafas untuk mengambil oksigen dan membuang karbon dioksida. Namun system pernapasan pada hewan berbeda dengan manusia. Bahkan, system pernapasan pada hewan pun berbeda-beda sesuai jenisnya.

Berilah tanda (✓) pada kolom benar atau salah pada pernyataan yang merupakan alat pernapasan yang dimiliki oleh hewan!

Pernyataan	Benar	Salah
Cacing tidak mempunyai alat pernapasan khusus, cacing bernafas melalui permukaan kulit		
Alat pernapasan serangga berbeda dengan hewan lain. Alat pernafasan serangga berupa trakea		
Katak termasuk hewan amfibi yaitu hewan yang hidup didarat dan di air. Katak hidup didalam air dan bernafas menggunakan paru-paru		

5. Kondisi geografis Indonesia beragam. Ada wilayah daratan dan ada pula wilayah perairan. Kondisi geografis yang beragam menyebabkan beragam pula jenis kegiatan ekonomi masyarakat. Keragaman ini disesuaikan dengan kondisi alam atau geografis suatu wilayah. Kegiatan ekonomi tersebut bertujuan memenuhi kebutuhan hidup masyarakat. Agar tercipta kehidupan yang nyaman, setiap penduduk perlu menghargai jenis kegiatan ekonomi penduduk lainnya.

Berikanlah tanda (✓) pada kolom benar atau salah pada pernyataan yang merupakan kegiatan ekonomi!

	Pernyataan	Benar	Salah
A	Kegiatan Pertanian 		
B	Kegiatan Peternakan 		
C	Kegiatan Pertambangan 		

6. Tangga nada adalah urutan nada yang di susun secara berjenjang. Dalam seni musik ada jenis tangga nada diatonis. Berilah tanda centang (✓) pada kolom benar atau salah yang termasuk ciri – ciri nada diatonis mayor!

Pernyataan	Benar	Salah
1. Mempunyai jarak nada 1 1 ½ 1 1 1 ½		
2. Lagu Bersifat semangat dan riang gembira		
3. Lagu biasanya di mulai dengan nada Sol		

7. Tanggung jawab bersifat kodratif dan selalu melekat pada diri setiap individu, terutama dalam kedudukannya sebagai warga masyarakat. Sebagai warga masyarakat, setiap individu hendaknya memperhatikan hal-hal yang menjadi tanggung jawabnya agar tercipta kehidupan masyarakat yang harmonis.

Pasangkanlah jenis tanggung jawab dengan bentuk tanggung jawab di masyarakat dengan menarik garis

Jenis tanggung jawab masyarakat

Bentuk tanggung jawab Masyarakat

Memelihara ketertiban dan keamanan hidup bermasyarakat



Menjaga dan memelihara rasa persatuan dan kesatuan masyarakat



Meningkatkan rasa solidaritas sosial



8. Kegiatan ekonomi merupakan serangkaian tindakan yang mampu menghasilkan, memperdagangkan dan mendistribusikan produksi atau jasa, secara umum kegiatan ekonomi dibagi menjadi 3 yaitu, produksi, distribusi dan konsumsi.

Pasangkanlah gambar berikut dengan jenis kegiatan ekonomi dengan menghubungkan garis !



produksi



Konsumsi



distribusi



Ekonomi

- 9 Kalimat tanya merupakan kalimat yang mengandung makna sebuah pertanyaan. Arti kalimat tanya adalah kalimat yang berisi pertanyaan kepada pihak lain untuk memperoleh jawaban dari pihak yang di tanya.

Pasangkan kalimat Tanya dengan jawaban di samping, dengan menarik garis !

Siapa nama lengkap bapak?	<input type="checkbox"/>	<input type="checkbox"/> Sejak lima tahun yang lalu
Sejak kapan bapak mengajar di SD Teladan?	<input type="checkbox"/>	<input type="checkbox"/> Lima juta
Berapakah penghasilan bapak?	<input type="checkbox"/>	<input type="checkbox"/> Pak Budi
		<input type="checkbox"/> Jln nenas no 15

B. ISIAN

Isilah titik-titik di bawah ini dengan tepat !

10. Tangga Nada diatonis ada bermacam – macam, yaitu tangga nada diatonic mayor dan tangga nada diatonic minor.

Tangga nada yang terdiri atas delapan nada dengan jarak satu dan setengah adalah tangga nada

11. Udara masuk ke dalam tubuh melalui lubang hidung, lalu masuk ke dalam batang tenggorokan, lalu turun ke paru-paru. Di dalam paru-paru, oksigen terserap ke dalam pembuluh darah halus. Sebaliknya, gas karbon dioksida dari pembuluh darah masuk ke dalam paru-paru dan selanjutnya dibuang saat kita menghembuskan napas.

Pada saat menghembuskan napas, udara yang dikeluarkan mengandung

12. Tanggung jawab adalah keadaan wajib menanggung segala sesuatunya. Setiap individu mempunyai tanggung jawab, karena tanggung jawab bersifat kodrati yaitu menjadi bagian dari kehidupan manusia. Lingkungan hidup dimasyarakat harus senantiasa dijaga agar tentram dan nyaman.

Salah satu bentuk usaha yang mencerminkan tanggung jawab setiap warga masyarakat dalam menjaga keamanan lingkungan adalah

C. URAIAN

13. Jenis usaha pariwisata merupakan usaha di bidang jasa. Bidang jasa berkaitan dengan pemberian layanan kepada konsumen. Contoh usaha jasa selain pariwisata antara lain perbankan, keuangan, asuransi, kesehatan, dan hukum.. Sektor pariwisata di Indonesia juga menonjolkan aspek budaya. Contoh objek wisata alam adalah danau, pantai, bukit, pegunungan, gunung, suaka alam, serta flora fauna. Contoh objek wisata budaya adalah kesenian daerah, upacara adat, keraton, dan candi. Berkembangnya sektor pariwisata menumbuhkan usaha-usaha penunjang

Tuliskan empat usaha- usaha di bidang pariwisata ?

Jawab :

14. Pertanian adalah kegiatan memanfaatkan sumber daya alam hayati untuk menghasilkan bahan pangan dan bahan baku industri.kegiatan pertanian dibagi menjadi 2 yaitu pertanian dilahan basah dilakukan ditempat yang berdekatan dengan sumber air, pertanian dilahan kering dilakukan dilahan yang tidak digenangi air.

Buatlah pertanyaan berdasarkan teks diatas menggunakan kata tanya apa.

Jawab :

15. Bagaimana cara pengambilan keputusan dalam musyawarah ?
Jawab :

Selamat Bekerja