

Vui cùng Cony - Kì 1


Điền số thích hợp và ô trống:

$$\text{Cat} + \text{Cat} + \text{Cat} = 60$$

$$\text{Cat} + \text{Eggs} + \text{Eggs} = 26$$

$$\text{Eggs} + \text{Bananas} + \text{Bananas} = 15$$

$$\text{Cat} + \text{Eggs} \times \text{Bananas} = \square$$

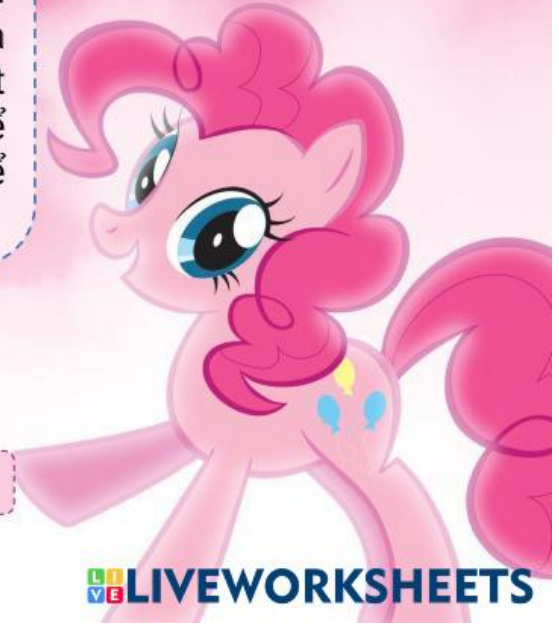


Vui cùng Cony

Một cây gỗ có chiều dài 8m, người thợ mộc muốn cưa cây gỗ này thành các khúc gỗ khác nhau mỗi khúc dài 16dm. Biết rằng, mỗi lần thực hiện cưa thợ mộc sẽ thực hiện mất 5 phút để cưa xong một khúc gỗ, sau đó anh ta sẽ nghỉ thêm 3 phút nữa để lấy sức. Hỏi người thợ mộc cần bao nhiêu phút để cưa xong cây gỗ 8m?

Điền đáp án của em vào chỗ chấm:

Người thợ mộc cần phút để cưa xong cây gỗ 8m.



Vui cùng Cony


Trong thùng có ba đôi vớ (bít tất) để lẫn lộn. Bạn Mai lấy ra 4 chiếc vớ.



Đúng ghi Đ, sai ghi S vào ô trống:

Trong 4 chiếc vớ bạn Mai vừa lấy ra có ít nhất 2 chiếc vớ cùng một đôi.

Trong 4 chiếc vớ bạn Mai vừa lấy ra không thể có 2 chiếc vớ cùng đôi.



CHÚC MỪNG CÁC CON

ĐÃ HOÀN THÀNH!



LIVEWORKSHEETS