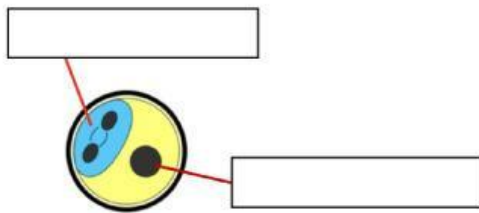


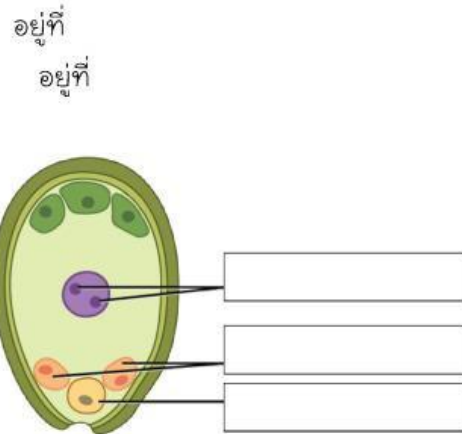
ใบงาน เรื่อง การสืบพันธุ์แบบอาศัยเพศของพืช

ตอนที่ 1 จงตอบคำถามลงในช่องว่างให้ถูกต้อง

- 1.1 เซลล์สืบพันธุ์เพศผู้ของพืช ได้แก่
เซลล์สืบพันธุ์เพศเมียของพืช ได้แก่
- 1.2 ส่วนประกอบของรังไข่ และละอองเรณู ประกอบด้วย



ส่วนประกอบภายในละอองเรณู



ส่วนประกอบภายในรังไข่

ตอนที่ 2 จงเรียงลำดับเหตุการณ์การสืบพันธุ์ของพืช พร้อมอธิบายได้ภาพ

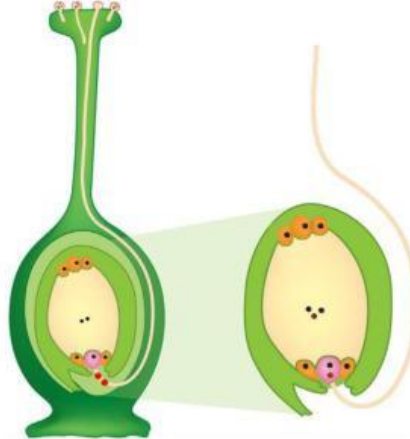
เหตุการณ์ที่



ชื่อเหตุการณ์

คำอธิบาย

เหตุการณ์ที่



ชื่อเหตุการณ์

คำอธิบาย

เหตุการณ์ที่



ชื่อเหตุการณ์

คำอธิบาย