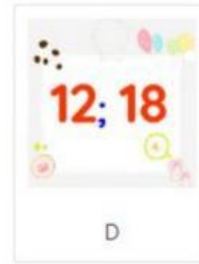
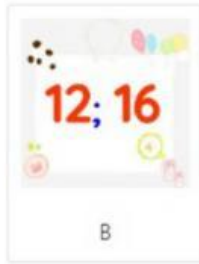
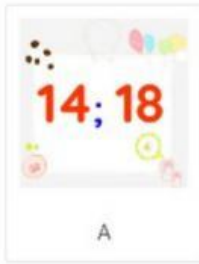


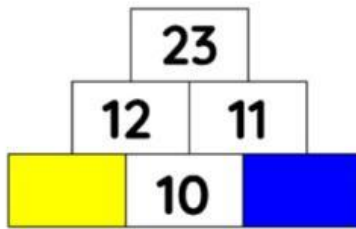
Chuyên đề: Số và phép tính

Bài 1. Các số cần điền vào chỗ chấm lần lượt là:

2; 6; 10;;; 20; 26



Bài 2. Số thích hợp cần điền vào ô màu xanh và ô màu vàng lần lượt là:



A. 1 và 2

B. 2 và 2

C. 2 và 1

Bài 3. Số lớn hơn 18 và bé hơn 20 là:



Bài 4. Điền số thích hợp vào ô trống

