

Hari :

Tanggal :





Nama :

No Absen :

LKPD IPA

PERKEMBANGBIAKAN TUMBUHAN SECARA VEGETATIF

Pasangkanlah perkembangbiakan tumbuhan yang sesuai dengan tumbuhannya dengan cara menarik garis.

No	Tumbuhan	Gambar	Berkembangbiak
1	Cocor bebek		
2.	Kunyit		
3.	Stawbery		
4.	Paku		
5.	Bawang merah		
6.	Pisang		
7.	Ubi jalar		
8.	Singkong		
9.	Ganggang Hijau		

Umbi Batang

Umbi Lapis

Tunas

Geragih

Umbi Akar

Akar Tinggal

Tunas Adventif

Spora

Fragmentasi

Pindahkanlah dengan drag and drop, cara perkembangbiakan tumbuhan secara vegetatif alami ini pada gambar tumbuhan yang sesuai!

RIZOMA	GERAGIH	SPORA	UMBI LAPIS	UMBI BATANG
TUNAS	TUNAS DAUN	TUNAS AKAR	UMBI AKAR	
