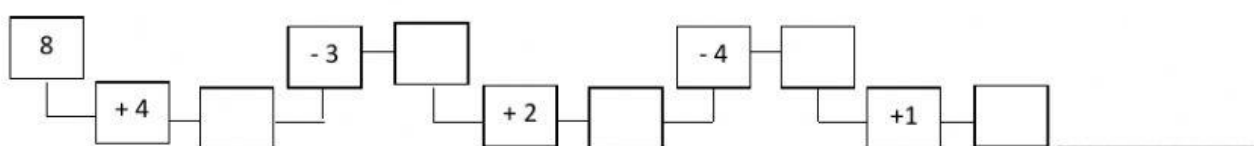


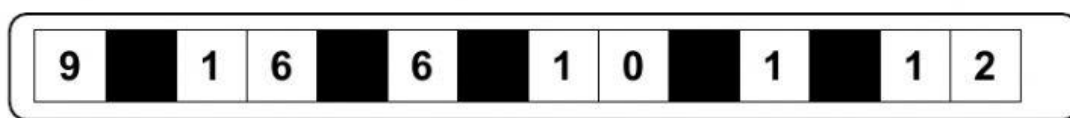
Nome: \_\_\_\_\_

Data: \_\_\_\_/\_\_\_\_/2021

1. Efetua as operações apresentadas.



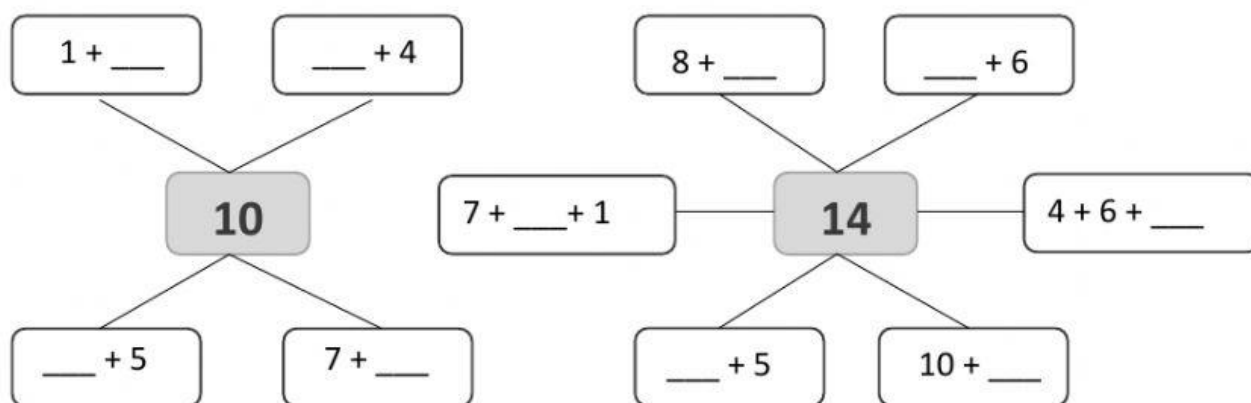
2. Indica qual é o **algarismo das unidades** em cada um dos números.



2.1. Coloca os números representados por ordem **crescente**.

\_\_\_\_ < \_\_\_\_ < \_\_\_\_ < \_\_\_\_ < \_\_\_\_ < \_\_\_\_ < \_\_\_\_

3. Completa as decomposições dos números representados.



4. Completa a tabela.

+	1	2	3	4	5
10	11				
4					
5					
9					
7					

5. Liga as duas colunas

Uma dezena

10

Uma dúzia

11

3 + 10

12

10 + 1

13

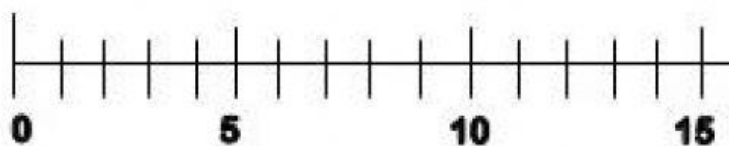
Meia dezena

6

Meia dúzia

5

6. Num ramo estavam **5** pássaros. Depois de passar um bando, pousaram mais alguns, tendo ficado com **dezena e meia** de pássaros. Quantos pássaros pousaram no ramo? (Utiliza a reta numérica para te ajudar)



$$\square + \underline{\quad} = 15$$

R.: Pousaram \_\_\_\_ pássaros.