



LKPD

**INTERAKTIF
BERBASIS HOTS**

- **SDN ANGKE 03 PAGI**
- **TA 2023 / 2024**
- **KELAS VI A**
- **MATEMATIKA**

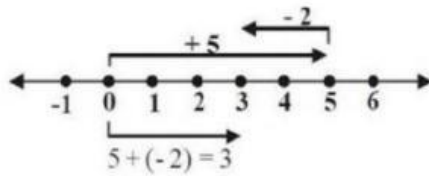
by: **SULAEMAN, S.Pd.**

Nama /No :

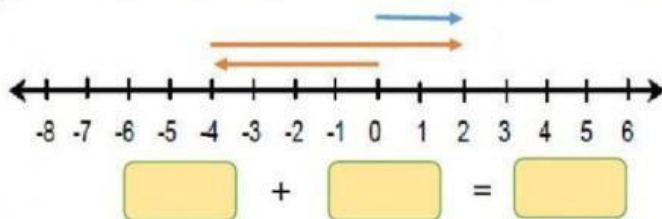
Tanggal :

PENJUMLAHAN BILANGAN BULAT

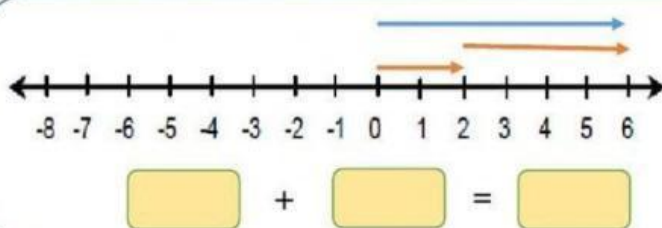
Contoh :



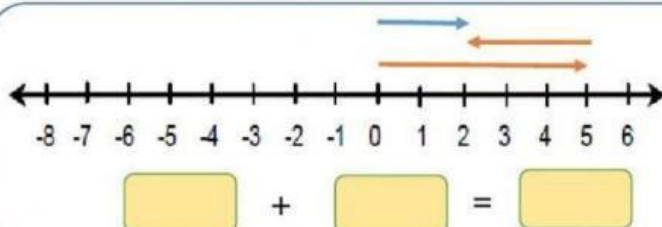
Tuliskan kalimat penjumlahan yang tepat berdasarkan garis bilangan berikut ini!



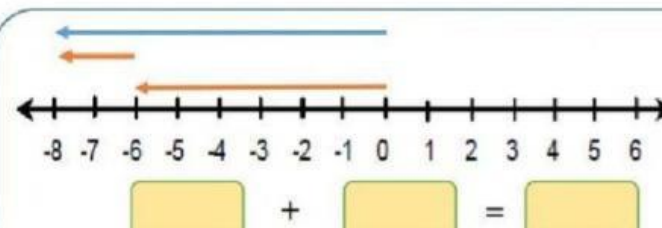
$2 + 4 = 6$



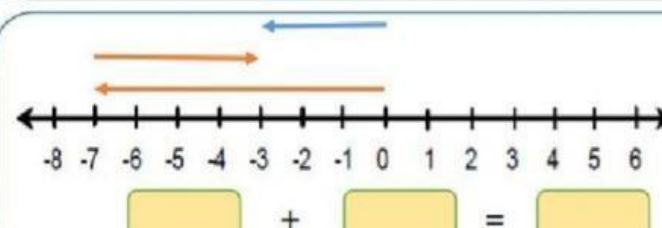
$-7 + 3 = 4$



$-4 + 6 = 2$



$5 + (-3) = 2$



$-6 + (-2) = -8$



Nama:

Kelas:

Worksheet Matematika Kelas 6
Soal Cerita Penjumlahan dan Pengurangan Bilangan Bulat

Kerjakan soal-soal berikut dengan penuh percaya diri.

1. Adik sakit demam. Pada pukul 05.00 suhu tubuh adik 39°C . Pada pukul 09.00 suhu tubuh adik turun 1°C . Sekarang suhu tubuh adik naik lagi 2°C . Berapa derajat suhu tubuh adik sekarang?



2. Sekelompok orang mengikuti lomba panjat pinang. Pinang yang digunakan diberi 25 garis tanda. Salah seorang anggota kelompok itu berhasil naik sampai garis ke-20. Karena licin, ia melorot sebanyak 8 garis. Pada garis ke berapa posisi orang tersebut?

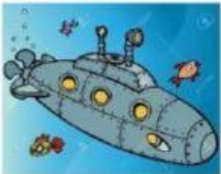


3. Sebuah pesawat berada pada ketinggian 6.000 kaki dari tanah. Untuk menghindari awan tebal, pesawat itu naik lagi 2.500 kaki.

Berapa kaki ketinggian pesawat itu sekarang?



4. Sebuah kapal selam berada 200 m di bawah permukaan air. Kapal itu naik sampai 50 m dari permukaan untuk melakukan pengintaian. Setelah itu, kapal selam turun lagi 200 m. Berapa jarak kapal selam itu dari permukaan air sekarang?



5. Suhu di kutub sangat dingin. Suhu di luar ruangan mencapai -12°C . Orang-orang Eskimo memakai penghangat ruangan. Suhu di dalam ruangan 4°C . Berapa selisih suhu di luar ruangan dan di dalam ruangan?

$$-12 - 4 = -16^{\circ}\text{C}$$

$$6000 + 2500 = 8500 \text{ dpl}$$

$$6000 + (2500) = 8500 \text{ dpl}$$



$$39 - 1 + 2 = 40^{\circ}\text{C}$$

$$20 - (-8) = 12$$

$$-200 + 150 - 200 = 150$$

$$-200 - 150 + 200 = 150$$

$$-12 + (-4) = 16^{\circ}\text{C}$$