

Nama \_\_\_\_\_


Absen \_\_\_\_\_

Kelas \_\_\_\_\_

Nilai \_\_\_\_\_

## Biotik dan Abiotik

Perhatikan ekosistem berikut!



Berikan ceklist biotik atau abiotik!

☐

Abiotik

☐

Biotik

☐

Abiotik

☐


Biotik

☐

Abiotik

☐

Biotik

☐

Abiotik

☐

Biotik

☐

Abiotik

☐

Biotik

☐

Abiotik

☐

Biotik

☐

Abiotik

☐

Biotik

☐

Abiotik

☐

Biotik



Nama:

Absen:

SKelas:

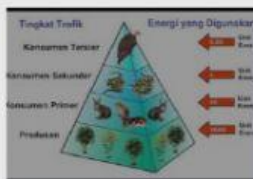
Nama:

## *Interaksi antara Makhluk Hidup dengan makhluk hidup lain*

Sebelum mengerjakan, tontonlah video berikut ini!



Tariklah Jawaban pada gambar yang sesuai!



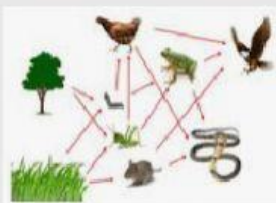
Rantai Makanan

Simbiosis Parasitisme



Jaring-jaring Makanan

Simbiosis Mutualisme



Piramida Makanan

Simbiosis Komensalisme



# INTERAKSI ANTARA MAKHLUK HIDUP

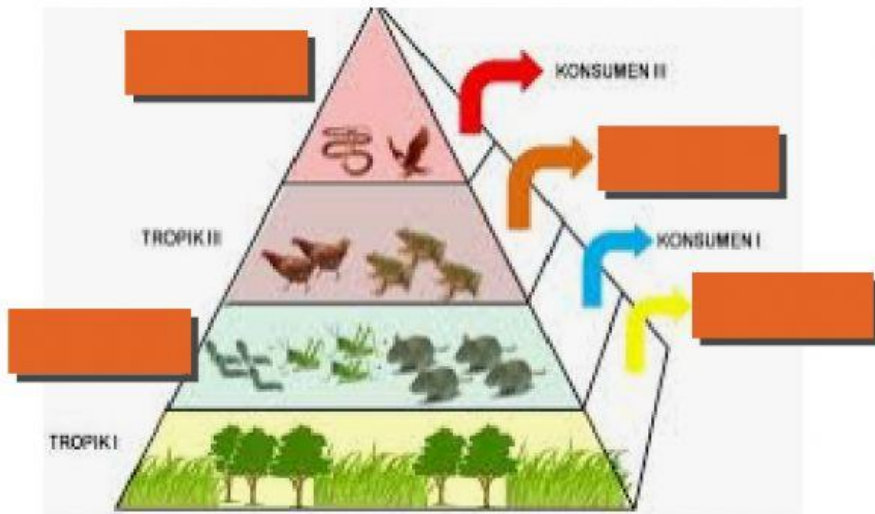
Nama:

Absen:

Kelas:

Nilai:

Tariklah jawaban pada kotak yang tepat!



TROPIK II

PRODUSEN

TROPIK IV

KONSUMEN II



## JARING-JARING MAKANAN

