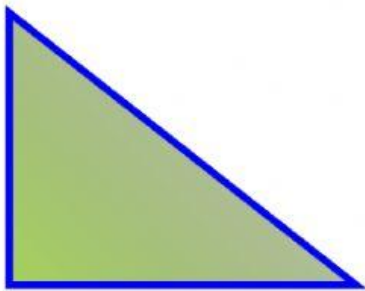




ESCUELA DE EDUCACIÓN GENERAL BÁSICA.  
ISAAC ANTONIO CHICO

Seleccione todas las respuestas correctas que identifiquen a un triángulo rectángulo:



Tiene un ángulo recto o de  $90^\circ$

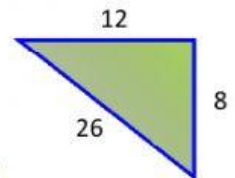
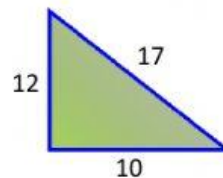
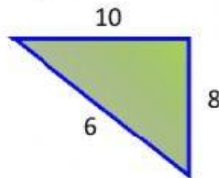
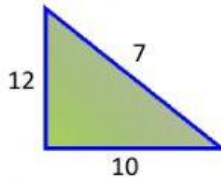
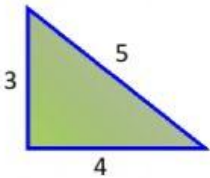
Todos sus lados son iguales.

Sus ángulos internos suman  $90^\circ$

Tiene 3 lados y 5 ángulos

La hipotenusa es el lado más grande

Seleccione las imágenes cuyas medidas representen a un triángulo rectángulo:



Seleccione los triángulos rectángulos

