

NAMA :
KELAS :
TANGGAL :

LEMBAR KERJA 2.1

Amplitudo

Panjang Gelombang

Puncak gelombang

Dasar Gelombang

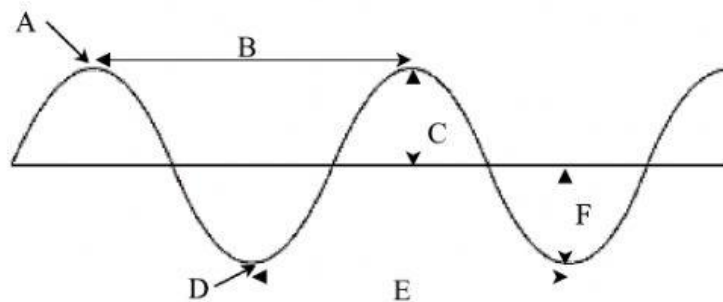
Berilah nama besaran/ istilah pada gelombang sesuai yang ditunjukkan oleh gambar berikut dengan memindahkan memindahkan kolom jawaban pada kolom yang telah disediakan :

A: _____

B: _____

C: _____

D: _____

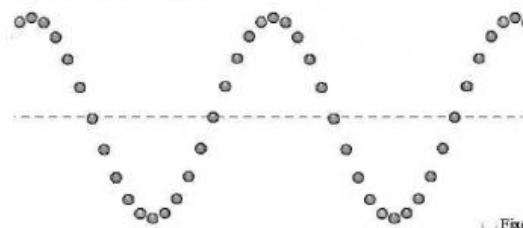


Amplitudo

Gelombang 1:




Gelombang 2:



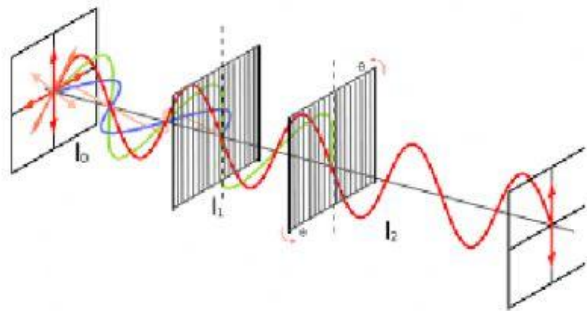
1. Gambar manakah yang memiliki Amplitud terbesar?

2. Gambar manakah yang memiliki Amplitud terkecil?

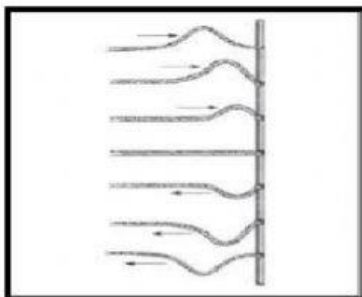
Cocokkan masing-masing gambar dengan menarik garis, atau hubungkan gambar dengan kolom yang menurut Anda sesuai dengan gambaran tentang konsep gelombang berikut




POLARISASI GELOMBANG




DIFRAKSI GELOMBANG



REFLEKSI GELOMBANG



REFRAKSI GELOMBANG



INTERFERENSI
GELOMBANG