

LKPD

NAMA : Muhammad Areski

NIM: 20800121051

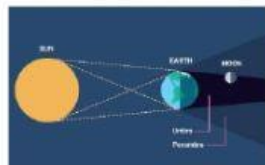
### Soal

1. Yang manakah gambar dari gerhana bulan total

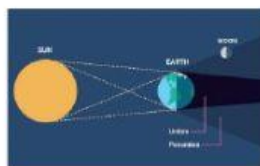
a.



b.

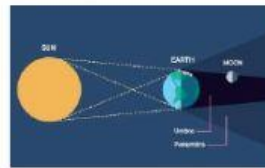


c.

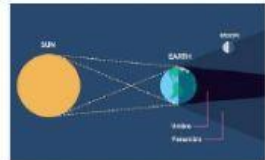


2. Yang manakah gambar dari gerhana bulan sebagian

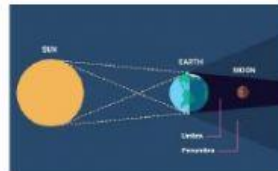
a.



b.



c.

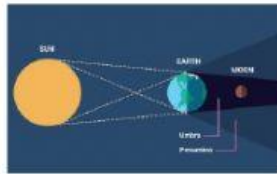


3. Yang manakah gambar dari gerhana bulan penumbra

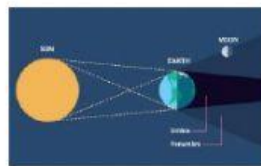
a.



b.



c.



4. Perputaran bulan pada porosnya disebut

- a. Rotasi bumi
- b. Rotasi bulan
- c. Revolusi bulan

5. Bayangan inti yang berada di bagian tengah sangat gelap, pada saat terjadi gerhana disebut...

- a. gerhana
- b. orbit
- c. umbra

