


ورقة عمل



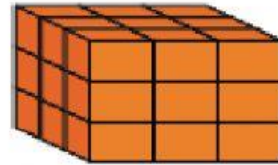
اختاري حجم الجسم الصحيح:



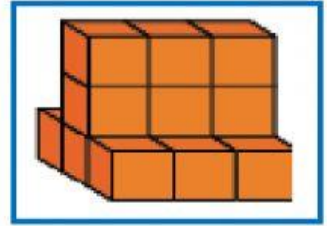
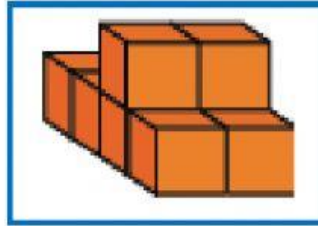
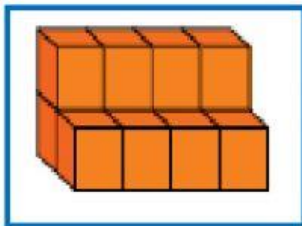
الحجم = (٢٤ - ٤٢ - ٢٥ - ٣٦) وحدة مكعبة



الحجم = (٣٦ - ٢٧ - ٤٥ - ١٦) وحدة مكعبة



صلي كل مجسم بالتقدير المناسب له:



١٥
وحدة مكعبة

١٢
وحدة مكعبة

١٠
وحدة مكعبة