

KỶ KHẢO SÁT TUYỂN SINH LỚP 6  
TRUNG HỌC PHỔ THÔNG CHUYÊN TRẦN ĐẠI NGHĨA  
BÀI KHẢO SÁT: TRẮC NGHIỆM

# ĐỀ THI THỬ SỐ 10

Thời gian làm bài: 45 phút (không kể thời gian phát bài)

## Question 1:

To start the poem “ Nhớ con sông quê hương” the poet Tế Hanh wrote:

“*Quê hương tôi có con sông xanh biếc      Tâm hồn tôi là một buổi trưa hè*  
*Nước gương trong soi bóng những hàng tre      Tỏa nắng xuống lòng sông \_\_\_\_\_ ...”*

Read the poem and complete the blank with the correct option.

- A. lấp lánh      B. lấp loáng      C. long lanh      D. rực rỡ

## Question 2:

Which non-Russian Asian first was in space flying aboard the Soyuz 37 mission as an Intercosmos research cosmonaut?



A. Valya Tereshkova



B. Neil Armstrong




C. Phạm Tuấn



D. Yuri Gagarin

## Question 3:



A large square is divided into a small square surrounded by four congruent rectangles. The perimeter of a rectangle is 14. What is the area of the large square?

- A. 43      B. 56      C. 28      D. 49

## Question 4:

Pictures 3 show four jigsaws of a painting. Which of the following orders (from left to right) makes a complete painting?



3a



3b



3c



3d

- A. 3a, 3b, 3d, 3c      B. 3b, 3d, 3a, 3c      C. 3a, 3d, 3c, 3b      D. 3d, 3a, 3c, 3b

## Question 5:

March 26<sup>th</sup> 2015 is a Saturday. March 26<sup>th</sup> 2016 is a \_\_\_\_.

- A. Sunday      B. Monday      C. Friday.      D. Saturday.

## Question 6:

Where were Geneva Accords (hiệp định Giơ-ne-vơ) in fact signed?

- A. Sweden      B. Switzerland      C. France      D. Vietnam

**Question 7:**

The sum of ages of 5 children born at the intervals of 3 years each is 50 years. What is the age of the youngest child?

- A. 4                      B. 8                      C. 10                      D. None of these

**Question 8:**

Read this proverb: “*Y cấm hỏi hương*”. Which word does not belong to the group sharing the same meaning with the word “*hương*” in the proverb?

- A. Hương thơm      B. Hương hoa      C. Hương thảo      D. Quê hương

**Question 9:**

Who is the first Vietnamese politician awarded Nobel Peace Prize for the effort in Paris Peace Accords negotiations in 1973?

- A. Lê Đức Thọ      B. Trường Chinh      C. Lê Duẩn      D. Võ Nguyên Giáp

**Question 10:**

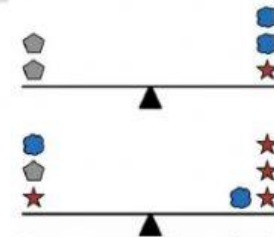
The deficiency of which vitamin is associated with the disease Rickets?

- A. Vitamin E      B. Vitamin D      C. Vitamin C      D. Vitamin B

**Question 11:**

Picture 4 shows the balance of pentagons, stars and clouds. How many pentagons would it take to balance 4 clouds?

- A. 2                      B. 3                      C. 4                      D. 5



**Question 12:**

“*Từ xa nhìn lại, đầm sen như một toà lâu đài màu xanh lấm tấm phần hồng. Hương sen nồng nàn lan toả theo làn gió bay xa thơm ngát một vùng. Trong làn sương sớm mong manh, huyền ảo làm cho cả đầm sen như khoác lên mình tấm áo choàng bằng voan trắng, có đính thêm những hạt kim cương lấp lánh. Mặt trời từ từ nhô lên chiếu nắng xuống cho đầm sen càng thêm long lanh. Gió lùa vào đầm sen như bàn tay người mẹ nhẹ nhàng đánh thức đàn con nhỏ bé. Đầm sen như sức tình giác vẫy những cánh tay mềm mại chào đón ông mặt trời.*”

Which of the following is used to compared with the lotus pond from distance?

- A. A castle      B. A cloak      C. A mommy hand      D. Soft arms

**Question 13:**

Supply the blanks with the appropriate words in brackets

“Asia has the \_\_\_\_\_ population in the world. People live mainly on the river \_\_\_\_\_ and the major industry is \_\_\_\_\_ or growing rice and cereals. Some countries develop the \_\_\_\_\_ industry and manufacture machinery.”

- A. highest - delta - agriculture - mining      B. agriculture - mining - highest - delta  
C. delta - highest - mining - agriculture      D. mining - agriculture - delta - highest

**Question 14:**

Choose the best that fits the blank:

“*Mùa lúa chín dưới đồng.....lại. Nắng nhạt ngả màu..... trong vườn lác lác những chùm quả xoan.....không trông thấy cuống như những tràng hạt bồ đề treo lơ lửng. Từng chiếc là mít.....*”

- 1.vàng hoe    2. vàng xuộm    3. vàng ối    4. vàng lịm  
A. 2-1-4-3      B. 1-2-3-4      C. 4-3-2-1      D. 1-3-2-4



**Question 15:**

What should not students do to protect the environment?

- A. litter in public places
- B. Plant more trees
- C. Clean up the surroundings
- D. Raise the public awareness

**Question 16:**

Picture 5 shows the most important strategic supply trail in the resistance of the country.

What is the other name of Ho Chi Minh Trail?

- A. Trường Sơn Route
- B. 5-59 Route
- C. Ho Chi Minh sea trail
- D. National Route



Picture 5

**Question 17:**

If it is now 7:00pm, what time would it be in 100 hours?

- A. 11:00am
- B. 11:00pm
- C. 9:00am
- D. 9:00pm

**Question 18:**

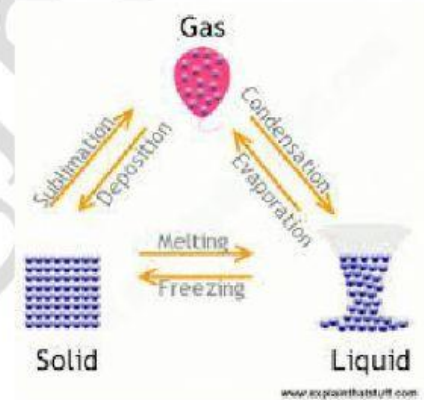
Where did the revolutionary movement “Đồng Khởi” occur first?

- A. Ben Tre
- B. Sai Gon
- C. Quang Ngai
- D. My Tho

**Question 19:**

When a gas is turned into a liquid, the process is called \_\_\_\_.

- A. Condensation
- B. Evaporation
- C. Deposition
- D. sublimation



Picture 6

**Question 20:**

The city of Saigon (Gia Dinh) was changed its name into Ho Chi Minh City in \_\_\_\_.

- A. 1975
- B. 1976
- C. 1945
- D. 1954

**Question 21:**

Read the information and the question, then choose the correct answer:

Câu 1: Đường vô xứ Nghệ quanh quanh, Non xanh nước biếc như tranh họa đồ.	Câu 2: Đất Quảng Nam chưa mưa đã thấm Rượu hồng đào chưa nhấm đã say.
Câu 3: Đồng Đăng có phố Kỳ Lừa, Có nàng Tô Thị, có chùa Tam Thanh.	Câu 4: Đố anh chi sắc hơn dao, Chi sâu hơn bể, chi cao hơn trời?

Which of the above-mentioned folk verses do NOT belong with the other ones?

- A. Câu 3.
- B. Câu 4.
- C. Câu 2.
- D. Câu 1.


**Question 22:**

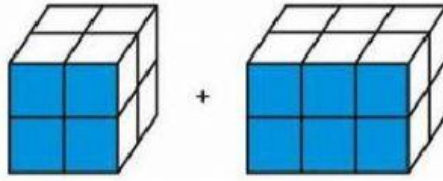
Frogs are vertebrates, which means they have backbones.

To which group of vertebrates do frogs belong?

- A. Bony fish
- B. Amphibians
- C. Reptiles
- D. Mammals

**Question 23:**

Each  weighs 1 kg. How much does this weigh?



A. 10

B. 15

C. 20

D. 28

**Question 24:**

Look at pictures 11. Which of pictures 11a, 11b, 11c, or 11d is the mirror image of the silhouette (bóng đen) of picture 11e?



11a



11b



11c



11d



11e

A. Picture 11a

B. Picture 11b

C. Picture 11c

D. Picture 11d.

THE END