




**SOAL ULANGAN MATEMATIKA
(KELILING DAN LUAS BANGUN DATAR)
SD NEGERI 10 PEMECUTAN
KELAS IV A SEMESTER 2
TAHUN AJARAN 2020 / 2021**




I. Berikan tanda silang (X) pada huruf a, b, c, dan d yang dianggap paling benar!

1.  Keliling bangun disamping adalah . . . cm

a. 8 cm
a. 56
b. 102
c. 30
d. 15

2. Sebuah persegi mempunyai panjang sisi 20 cm. Luas persegi tersebut adalah . . . cm^2

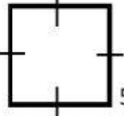
a. 40
b. 440
c. 400
d. 44

3.  Keliling bangun segitiga di samping adalah . . . cm.

a. 32
b. 34
c. 22
d. 17

II. Lengkapilah titik-titik di bawah ini dengan jawaban yang tepat !

4. Luas sebuah persegi 144 cm^2 . Keliling persegi tersebut adalah . . . cm.

5.  Luas bangun persegi disamping adalah . . . cm^2

III. Jawablah pertanyaan di bawah ini dengan benar!


6. Sebuah persegi panjang memiliki panjang dua kali lebarnya. Jika lebar persegi panjang 5 cm. Berapakah luas persegi panjang tersebut ?



**SOAL ULANGAN MATEMATIKA
(KELILING DAN LUAS BANGUN DATAR)
SD NEGERI 10 PEMECUTAN
KELAS IV A SEMESTER 2
TAHUN AJARAN 2018 / 2019**



I. Berikan tanda silang (X) pada huruf a, b, c, dan d yang dianggap paling benar!

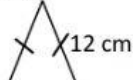
1.  Keliling bangun disamping adalah . . . cm

b.

- a. 56 c. 30
b. 102 d. 15

2. Sebuah persegi mempunyai panjang sisi 20 cm. Luas persegi tersebut adalah . . . cm^2


- a. 40 c. 400
b. 440 d. 44

3.  Keliling bangun segitiga di samping adalah . . . cm.

- a. 32 c. 22
b. 34 d. 17

II. Lengkapilah titik-titik di bawah ini dengan jawaban yang tepat !

4. Luas sebuah persegi 144 cm^2 . Keliling persegi tersebut adalah . . . cm.

5.  Luas bangun persegi disamping adalah . . . cm^2

III. Jawablah pertanyaan di bawah ini dengan benar!

6. Sebuah persegi panjang memiliki panjang dua kali lebarnya. Jika lebar persegi panjang 5 cm. Berapakah luas persegi panjang tersebut ?