




1. Яка фігура знизу?



А яка — зверху?



2. Ведмежа сортує фігури за формою. Назви фігури



1



2



3



4



5



6

Чотирикутник-

П'ятикутник-

Шестикутник-