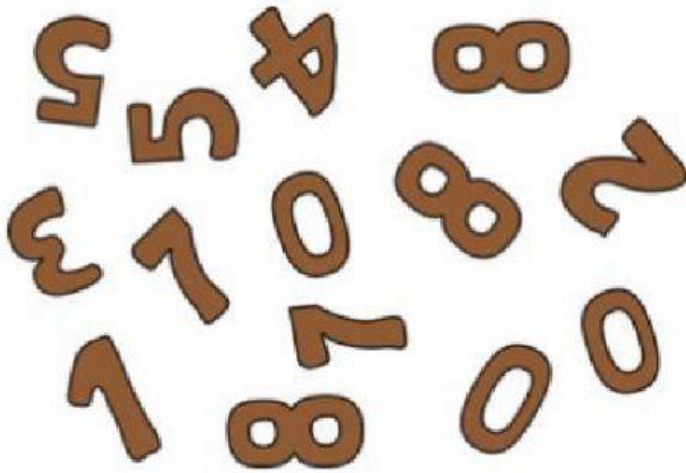


## Toán Kangaroo Lớp 2 – Số 04

### 1. Phần A. Mỗi câu đúng 3 điểm.

Các chữ số nào đang thiếu?



- 3 and 5
- 4 and 8
- 2 and 0
- 6 and 9
- 7 and 1

2. Có 12 cuốn sách trên giá và 4 đứa trẻ trong một phòng. Hỏi trên giá còn bao nhiêu cuốn sách nếu mỗi bạn lấy đi một cuốn?



- 12
- 8
- 4
- 2
- 0

3. Chiếc váy nào có ít hơn 7 chấm nhưng nhiều hơn 5 chấm?



- A
- B
- C
- D
- E


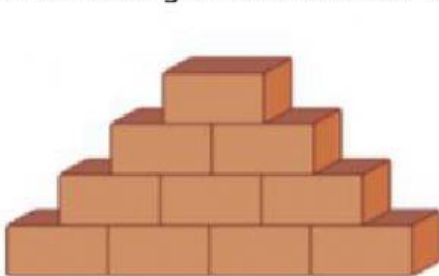
4. Rất nhiều con thú được sinh ra trong sở thú năm ngoái: 2 con sư tử 3 con cá heo và 4 con chim ưng. Hỏi tất cả chúng có bao nhiêu cái chân?

- 20
- 18
- 16
- 14
- 12

5. Một vài bạn học sinh muốn trồng 20 cây hoa tu líp trong vườn trường. Họ mất 10 phút để trồng được 5 cây tu líp. Họ bắt đầu trồng lúc 9:00 sáng. Hỏi họ trồng xong 20 cây lúc mấy giờ?

- Lúc 9:10
- Lúc 9:20
- Lúc 9:40
- Lúc 9:50
- Lúc 10:00

6. Bức tường to hơn có nhiều hơn bao nhiêu hòn gạch?




- 4
- 5
- 6
- 7
- 10

**7. Phần B. Mỗi câu đúng 4 điểm.**


Ann has  . Barb gave Eve 

. Jim has  . Bob has  . Who is Barb?



- A
- B
- C
- D
- E

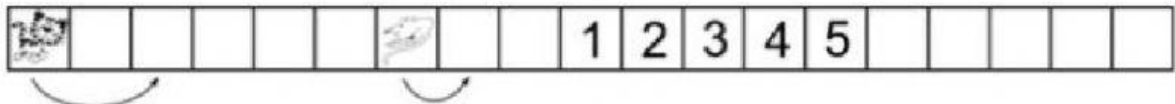
8. Có một con đường với các ô vuông như dưới đây:



Vùng ô trắng phía trong có bao nhiêu ô vuông?

- 5
- 6
- 7
- 8
- 9

9. Chuột và Mèo cùng di chuyển về phía bên phải. Khi chuột đi được 1 ô vuông thì mèo đi được 2 ô.



Hỏi ở ô số mấy Mèo bắt được chuột?

- 1
- 2
- 3
- 4
- 5

10. Tôi là một số. Nếu bạn đếm cách 10 bạn sẽ gặp tên tôi. Tôi không phải số 10. Nếu bạn cộng tôi với 30 sẽ được số bé hơn 60. Tôi là số mấy?

- 20
- 30
- 40
- 50
- 60

11. Có một ngôi nhà ở mỗi góc của con phố. Các ngôi nhà này ở vị trí như trên bản đồ dưới đây. Có 2 ngôi nhà mới sẽ được xây trên trên mỗi phố giữa hai căn nhà góc. Hỏi tất cả có bao nhiêu ngôi nhà?



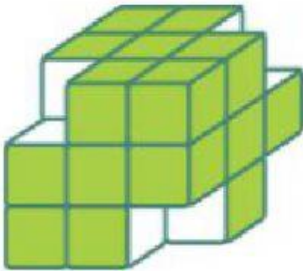
- 8
- 12
- 16
- 20
- Other answer

12. Cô bé Kasia có 3 người anh em trai và 3 chị em gái. Hỏi anh trai Mike của bạn ấy có bao nhiêu anh em trai và chị em gái?

- 3 anh em trai và 3 chị em gái
- 3 anh em trai và 4 chị em gái
- 2 anh em trai và 3 chị em gái
- 3 anh em trai và 2 chị em gái
- 2 anh em trai và 4 chị em gái

13. **Phần C. Mỗi câu 5 điểm.**

Ania tạo một khối lập phương lớn từ 27 khối lập phương trắng nhỏ. Sau đó bạn ấy tô tất cả các mặt của khối lập phương mới màu xanh lá cây.



Sau đó Ania bỏ ra 4 khối lập phương nhỏ ở bốn góc, như hình trên. Trong khi sơn vẫn còn ướt, bạn ấy đóng dấu các mặt mới lên trên giấy. Có bao nhiêu các vết dấu Ania có thể tạo ra?



(A) 1



(B) 2



(C) 3

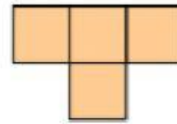


(D) 4

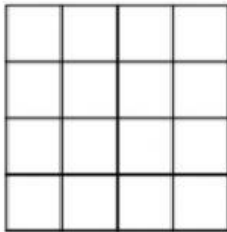


(E) 5

- A
- B
- C
- D
- E



14. Ann có rất nhiều các mẫu hình như thế này:  
Bạn ấy cố gắng đặt chúng vào trong một hình vuông, càng nhiều càng tốt. Hỏi hình vuông khi đó còn lại bao nhiêu ô trống?



- 0
- 1
- 2
- 3
- 4