





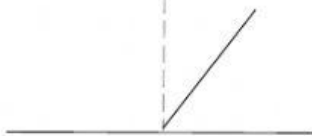
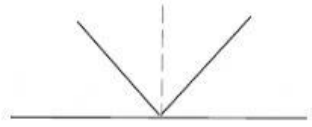
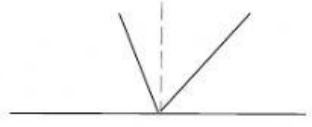
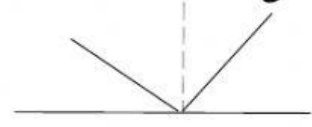

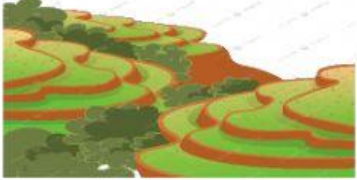


١- سلط خالد كشاف ضوئي على منشور زجاجي، ما اللون الذي لاحظ انه ينحرف بشكل أكبر؟			
الأحمر لأن طوله الموجي كبير	الأزرق لأن طوله الموجي كبير	الأحمر لأن طوله الموجي صغير	الأزرق لأن طوله الموجي صغير
<p>٢- أي الخيارات الآتية تمثل التصنيف الصحيح لموارد الأرض</p> <p>أ  ب  ج  د  هـ </p>			<p>أرماج متجددة در ه غير متجددة</p>
<p>أرماج متجددة در ه غير متجددة</p>	<p>در ه متجددة أرماج غير متجددة</p>	<p>أر ه متجددة أر ه غير متجددة</p>	<p>أر ه متجددة أر ه غير متجددة</p>
<p>٣- من أين تنطلق الاهتزازات التي تنتج الصوت في الصورة المقابلة</p> <p></p>			
خشب العود	الهواء حول العود	أنامل الفتاة	أوتار العود
<p>٤- أي الأشكال الآتية يوضح الانعكاس الصحيح للضوء؟</p> <p></p>			
<p>أ </p>	<p>ب </p>	<p>ج </p>	<p>د </p>
<p>٥- تعرف طريقة الزراعة في الصورة المقابلة بـ.....</p> <p></p>			
الزراعة الشريطية	المصاطب	الأشرطة المتبادلة	الزراعة المائية
<p>٦- عند دخولك بيت زجاجي تشعر بتأثير يشبه ظاهرة تعرف بـ</p>			
الضباب الدخاني	الاحتباس الحراري	ثقب الأوزون	المطر الحمضي