



PEMERINTAH KABUPATEN BANYUASIN  
DINAS PENDIDIKAN DAN KEBUDAYAAN  
**SD IT RAUDHATUN NAQIYAH**

Alamat : Jl. Kebun Jeruk RT. 40 RW. 10 Desa Lalang Sembawa Kabupaten Banyuwangi Kode Pos 30953  
e-mail : [raudhatunaqiyah@gmail.com](mailto:raudhatunaqiyah@gmail.com) NPSN : 69985572



**PENILAIAN AKHIR TAHUN  
TAHUN PELAJARAN 2022/2023**

Tema : 7 (4G/Indahnya Keragaman di Negeriku) Hari/Tanggal : Selasa, 13 Juni 2023  
Kelas/Semester : IV (empat) / Genap Waktu : 90 Menit

Nama Peserta Didik : ..... Nomor PAT : .....

**Pilihlah satu jawaban yang tepat dengan memberikan tanda silang (X) pada pilihan jawaban a, b dan d!**

1. keragaman suku bangsa di Indonesia disebabkan oleh faktor...

a. Keadan transportasi  
b. Sikap masyarakat terhadap perubahan  
c. Kondisi negara kepulauan  
d. Perbedaan jam

2. Suku bangsa berikut yang mendiami provinsi Aceh adalah..

a. Gayo, Alas dan Tamiang  
b. Dayak, Banjar dan Tidung  
c. Betawi, Sunda dan Tengger  
d. Bali, Sasak dan Sumbawa

3. Perhatikan gambar berikut.



a. Sunda  
b. Toraja  
c. Jawa  
d. Bali

4. Pakaian adat yang berasal dari pulau kalimantan adalah...

a. Koteka  
b. Baju cela  
c. Baju Sangkurat  
d. Baju B.Kanduang

5. Perhatikan gambar berikut.



Cemilan di atas menggunakan bahan baku yang dihasilkan oleh kegiatan...

a. Perikanan  
b. Perternakan  
c. Pertanian  
d. Pertambangan

*Teks bacaan soal No 6-10*

**Suku Bangsa di Indonesia**

Sejak dahulu kala bangsa Indonesia hidup dalam keragaman. Kalimat Bhinneka Tunggal Ika pada lambang negara Garuda Pancasila bukan cuma slogan. Penduduk Indonesia terdiri atas beragam suku bangsa, agama, bahasa, adat, dan budaya tetapi semua dapat hidup rukun berdampingan.

Berdasarkan hasil sensus Badan Pusat Statistik (BPS) tahun 2010, bangsa Indonesia terdiri atas 1.331 suku. Berdasarkan sensus itu pula, suku bangsa terbesar adalah Suku Jawa yang meliputi 40,2 persen dari penduduk Indonesia. Suku Jawa ini merupakan gabungan dari suku-suku bangsa di Pulau Jawa, yaitu: Jawa, Osing, Tengger, Samin, Bawean, Naga, dan suku-suku lainnya. Suku yang paling sedikit jumlahnya adalah Suku Nias dengan jumlah 1.041.925 jiwa atau hanya 0,44 persen dari jumlah penduduk Indonesia. Namun, suku-suku Papua yang terdiri atas 466 suku, jumlahnya hanya 2.693.630 jiwa atau 1,14 persen dari jumlah penduduk Indonesia. Sedangkan etnis Tionghoa jumlahnya 2.832.510 jiwa atau 1,2 persen penduduk Indonesia.

Sumber: <http://bobo.kidnesia.com>. diunduh 1 September 2016


6. Berdasarkan teks di atas suku terbesar yang ada di Indonesia adalah..

a. Suku nias  
b. Suku jawa  
c. Etnis tionghoa  
d. Suku papua



7. Teks bacaan “ Suku Bangsa di Indonesia” adalah..

a. Teks fiksi  
b. Teks nonfiksi  
c. Dongeng  
d. Legenda



8. Kata sulit "sensus" memiliki makna...
- Keragaman penduduk
  - perhitungan jumlah penduduk
  - bermacam-macam penduduk
  - satu kesatuan penduduk
9. Pokok pikiran dari paragraf pertama adalah..
- Keragaman bangsa Indonesia
  - Keragaman agama di Indonesia
  - Keragaman suku bangsa di Indonesia
  - Keragaman adat istiadat di Indonesia
10. Informasi pada paragraf pertama adalah...
- Jumlah penduduk bangsa Indonesia terdiri atas 1.331 suku.
  - Etnis Tionghoa jumlahnya 2.832.510 jiwa atau 1,2 persen penduduk Indonesia.
  - Penduduk Indonesia terdiri atas beragam suku bangsa, agama, bahasa, adat, dan budaya tetapi semua dapat hidup rukun berdampingan.
  - Suku Jawa ini merupakan gabungan dari suku-suku bangsa di Pulau Jawa, yaitu: Jawa, Osing, Tengger, Samin, Bawean, Naga, dan suku-suku lainnya.
11. Temanmu menceritakan tentang bagian-bagian rumah adat daerahnya. Ia juga menceritakan tentang kegunaan bagian-bagian dari rumah adat tersebut. Cara untuk menghargai temanmu tersebut adalah...
- Menertawakan bentuk rumah adat teman
  - Memilih memperhatikan hal lain dibanding cerita teman
  - Meminta teman berhenti bercerita karena kurang tertarik
  - Mendengarkan sambil memuji keindahan bentuk rumah adat
12. Berikut yang merupakan salah satu penyebab beragamnya suku bangsa di Indonesia adalah...
- Kedatangan para pedagang asing ke Indonesia
  - Bentuk wilayah Indonesia yang berupa kepulauan
  - Banyak masyarakat Indonesia yang berkerja sebagai petani
  - Penjajahan di Indonesia yang berlangsung selama ratusan tahun
13. Perhatikan tanda-tanda berikut.
- Menjauhi teman karena berbeda suku dengan kita
  - Menganggap suku asal kita lebih baik daripada suku asal teman.
  - Merasa senang bermain dengan teman walau berbeda suku dengan kita.
  - Membagikan oleh-oleh kepada seluruh tetangga tanpa membedakan asal sukunya.
- Tindakan menghargai keragaman suku bangsa ditunjukkan oleh nomor...
- 1 dan 2
  - 1 dan 3
  - 2 dan 4
  - 3 dan 4
14. Perhatikan gambar berikut.
- 
- Semangat persatuan dan kesatuan pada gambar memberikan banyak manfaat bagi masyarakat. Salah satunya adalah...
- Menimbulkan pertikaian
  - Menyebabkan kemacetan di jalan
  - Membantu kelancaran pembangunan fasilitas umum
  - Menimbulkan perselisihan antara anggota masyarakat
15. Bangsa Indonesia terdiri atas beragam ras dan suku bangsa. Ciri fisik kita dan saudara-saudara kita di daerah lain dapat berbeda. Contoh sikap toleran yang dapat kita tunjukkan terhadap perbedaan tersebut adalah...
- Mengejek warna kulit saudara dari daerah lain
  - Menertawakan bentuk rambut saudara dari daerah lain
  - Menjauhi saudara dari daerah lain yang berbeda fisik
  - Memberi perlakuan yang sama kepada semua orang tanpa melihat ciri fisiknya



16. Tempo yang digunakan dalam menyanyikan lagu "Apuse" yaitu...
- Largo
  - Andante
  - Moderato
  - Alegro
17. Largo merupakan cara cara bernyanyi dengan menggunakan tempo...
- Lambat
  - Cepat
  - Sedang
  - Tinggi
18. Bentuk Pola horizontal, diagonal, garis lurus ke depan, zig-zag, segitiga, segi empat, dan segi lima merupakan bagian dari bentuk pola...
- Bentuk pola garis depan
  - Bentuk pola garis campuran
  - Bentuk pola garis lurus
  - Bentuk pola garis lengkung
19. Perhatikan gambar di bawah ini.
- 
- Dalam tarian legong aksesoris yang di gunakan adalah...
- Selendang
  - Topi
  - Kipas
  - Payung
20. Linda ingin membuat montase. Alat yang digunakan Linda untuk menempelkan potongan kertas adalah...
- Tanah liat
  - Lem kertas
  - Tepung sagu
  - Remahan kayu
21. Dorongan atau tarikan yang dapat menyebabkan benda bergerak atau berubah bentuk disebut...
- Medan gaya
  - Gerak
  - Gaya
  - Arus
22. Pernyataan yang benar tentang gaya dan pengaruhnya adalah...
- Buah mangga yang jatuh dari pohon menunjukkan adanya gaya listrik statis.
  - Contoh dari gaya otot adalah kuda yang sedang menarik gerobak.
  - Mendorong meja merupakan contoh gaya dapat mengubah bentuk benda.
  - Ayah menginjak pedal rem mobil menunjukkan contoh gaya dapat mengubah bentuk benda.
23. Benda X bermuatan positif dan benda Y bermuatan negatif. Saat kedua benda saling berdekatan, maka...
- Benda X menolak benda Y
  - Benda X dan Y akan tolak menolak
  - Benda X dan Y akan tarik menarik
  - Benda X dan Y tidak terjadi interaksi
24. Perhatikan gambar berikut.
- 
- Pernyataan yang tepat mengenai pemanfaatan benda tersebut adalah...
- Benda tersebut memanfaatkan listrik statis untuk mengikat logam.
  - Benda tersebut menggunakan magnet sehingga dapat menarik logam.
  - Benda tersebut melepaskan listrik sehingga menyebabkan logam menempel.
  - Benda tersebut memanfaatkan magnet sehingga menyebabkan logam menjadi ringan.
25. Peristiwa berikut yang terjadi karena pengaruh gaya gravitasi bumi adalah...
- Anak panah terlontar dari busur
  - Gerobak bergerak karena ditarik sapi
  - Kendaraan yang berhenti setelah direm
  - Batu yang di lempar ke atas kembali ke tanah

## II. Jawablah pertanyaan di bawah ini dengan tepat !

1. Mengapa sikap toleransi sangat penting dalam keragaman bangsa Indonesia ? Apa manfaat dari adanya sikap toleransi?

---



---



---



---



---



## Teks bacaan soal No 2

### Urang Kanekes, Si Suku Baduy

Banten merupakan sebuah provinsi di Pulau Jawa bagian barat. Provinsi Banten memiliki kekayaan alam dengan pemandangan indah, termasuk pegunungan dan pantai. Di pegunungan Kendeng dengan ketinggian 600 m dari permukaan air laut, tinggal masyarakat adat yang biasa kita sebut suku Baduy. Namun, masyarakat suku Baduy lebih senang menyebut diri mereka urang Kanekes. Dalam bahasa Sunda, urang berarti orang.

Masyarakat Kanekes dibagi menjadi dua kelompok, yaitu tangtu dan panamping. Kelompok tangtu dikenal sebagai Kanekes Dalam atau Baduy Dalam. Sebaliknya, kelompok panamping dikenal sebagai Kanekes Luar atau Baduy Luar.

Kelompok Kanekes Dalam atau Baduy Dalam tinggal di tiga desa, yaitu Cikertawana, Cikeusik, dan Cibeo. Masyarakat Kanekes Dalam masih sangat teguh dalam memegang tradisi. Mereka tidak menggunakan alat-alat elektronika, tidak menggunakan alas kaki, tidak menggunakan kendaraan sebagai alat transportasi, serta mengenakan pakaian adat yang ditenun dandijahit sendiri. Mereka menganut kepercayaan tradisional "sunda wiwitan" dan dipimpin oleh seorang Pu'un. Pu'un juga berkedudukan sebagai pemimpin masyarakat Kanekes.

Kelompok panamping sedikit berbeda dari masyarakat Kanekes Dalam. Masyarakat Kanekes Luar atau Baduy Luar telah mengenal teknologi dan alat elektronika. Mereka juga mengenakan pakaian modern. Namun, masyarakat Baduy Luar masih bisa dikenali dari ciri khas mereka, yaitu mengenakan ikat kepala berwarna hitam.

(Sumber: <http://m.detik.com>)

2. Ide pokok yang terdapat pada paragraf terakhir adalah...

---

---

---

---


---

3. Tentukan pengaruh gaya dan gerak terhadap kegiatan berikut!

Bola yang di tendang



Bus yang melaju kemudian berhenti



Besi yang diangkat kobelko



Buah jatuh dari pohonnya



4. Perhatikan gambar berikut!



Setelah mengamati gambar diatas, bagaimana hubungan antar kondisi wilayah Indonesia dengan keragaman di Indonesia? Keragaman apa saja yang ada di Indonesia?

---

---

---

---

---

---

---

---

---

---

5. Apa yang dimaksud dengan karya seni aplikasi? Jelaskan menggunakan bahasa mu!

---

---

---

---

---

---

---

---

---

---