



### PENILAIAN TENGAH SEMESETER

NAMA : D. Firdausy

KELAS : III (tiga)

TEMA : 6 (enam)

1. Jawablah pertanyaan dengan menyilang (x) a,b,c atau d !

PKN	B. INDO	MTK	SBdP	PJOK
5	5	4	5	3


#### PPKn


- ✓ 1. Kita berhak untuk menggunakan energi listrik dan kita juga mempunyai kewajiban untuk ...  
☐ Memboroskannya ☒ mengubahnya  
☒ Menghematnya ☐ merusaknya
- ✓ 2. Menjaga sumber energy dan menghemat penggunaannya energi yang ada di bumi merupakan kewajiban ...  
☐ Setiap individu ☐ orang tua  
☐ Guru ☒ siswa
- ✓ 3. Berikut ini merupakan hak kita terhadap sumber energy adalah ...  
☐ Mendapat air kotor ☒ mendapat aliran listrik dengan baik  
☐ Menikmati udara yang tercemar ☒ membayar iuran listrik
- ✓ 4. Salah satu contoh kewajiban manusia terhadap energy adalah ...  
☒ Menggunakan lampu untuk belajar  
☐ Menyalakan kipas angin saat kepanasan  
☐ Menyalakan televisi untuk hiburan  
☐ Menjaga ketersediaan energy
- ✓ 5. Kewajiban hemat energy bertujuan untuk ...  
☐ Meningkatkan dampak pemanasan global  
☐ Membuat sebuah perubahan  
☐ Memengaruhi kelangsungan hidup anak cucu kita nanti  
☒ Mengurangi penggunaan bahan bakar yang berasal dari fosil

#### BAHASA INDONESIA

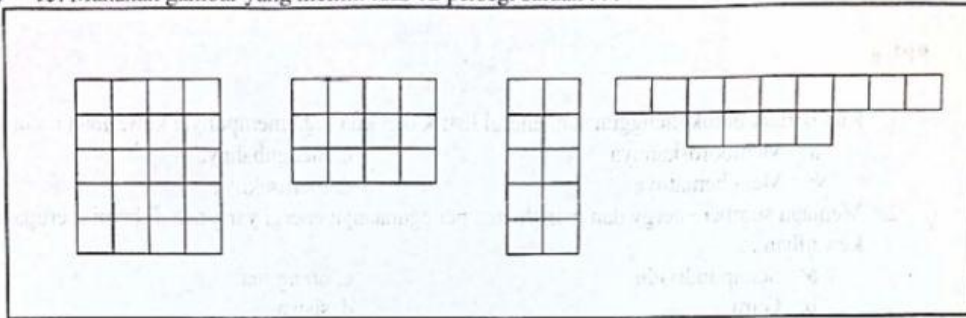
- ✓ 6. Saat berjemur di bawah terik matahari, kita akan merasakan ...  
☐ Sejuk ☒ basah  
☐ Panas ☒ dingin
- ✓ 7. Energy yang dibutuhkan untuk menghidupkan alat-alat elektronik adalah ...  
☐ Gas ☒ elpiji  
☐ Bensin ☒ listrik
- ✓ 8. Peralatan dibawah ini yang tidak menggunakan energy listrik adalah ...  
☐ Kulkas ☒ lampu  
☐ Kipas angin ☒ kompor gas
- ✓ 9. Di bawah ini adalah contoh sumber energy yang dapat diperbaharui, **kecuali** ...  
☐ Air ☒ batu bara  
☐ Udara ☒ matahari
- ✓ 10. Di bawah ini yang termasuk energy alternative adalah ...  
☐ Panas bumi, bensin, air ☒ air, angin, minyak tanah  
☐ Matahari, air, angin ☒ angin, solar, matahari

## MATEMATIKA

- ✓ 11. Buyung mulai bermain sepak bola pukul 15.00, ia selesai bermain sepak bola pukul 17.00 . lama waktu buyung bermain sepak bola adalah ...  
☐ A 2 jam  
☒ B 4 jam  
☐ C 3 jam  
☐ D 5 jam
- ✓ 12. Pukul 23.45 sama dengan pukul ... malam  
☐ A 12.14  
☐ B 11.45  
☒ C 10.45  
☐ D 09.45
- 13. Ida membantu ibu selama satu setengah jam. Jika ida membantu pukul 10.00 maka ida selesai pukul ...  
☐ A 10.30  
☐ B 11.30  
☒ C 08.30  
☐ D 12.30
- ✓ 14. Luas kotak pada gambar di samping adalah ...  
 10  
 6  
 7  
 8
- 
- ✓ 15. Manakah gambar yang memiliki luas 12 persegi satuan ...



- ✓ 15. Manakah gambar yang memiliki luas 12 persegi satuan ...

**SBdP**

- ✓ 16. Di bawah ini yang bukan termasuk alat musik ritmis ...  
☐ Marakas ☐ kastanyet ☐ piano ☐ triangle
- ✓ 17. Alat musik ritmis yang terbuat dari logam dan berbentuk segitiga serta dimainkan dengan cara dipukul adalah ...  
☐ Kongo ☐ triangle ☐ tamborin ☐ marakas
- ✓ 18. Gerak berguling yang dilakukan dalam tari termasuk gerak level ...  
☐ Sedang ☐ sangat tinggi ☐ rendah ☐ tinggi
- ✓ 19. Unsur utama dalam tari adalah ...  
☐ Gerak ☐ irama ☐ musik ☐ panggung
- ✓ 20. Biru, merah dan kuning adalah unsur gambar dekoratif, yaitu ...  
☐ Garis ☐ warna ☐ bidang ☐ motif

**PJOK**

- ✓ 21. Latihan yang berfungsi untuk kelentukan persendian tubuh adalah ...  
 Pelembasan : pemanasan  
 Pendinginan : pemampasan
- ✓ 22. Berikut ini alat yang digunakan untuk senam ritmik, kecuali ...  
 Gada : tongkat  
 Bola : palu
- ✗ 23. Pada saat melakukan latihan dasar, seluruh bagian tubuh harus digerakkan secara ...  
 Aktif : pelan  
 Gesit : lunglai
- ✗ 24. Posisi kaki pada saat melakukan gerakan ayunan lengan silang dan rentang di depan badan adalah  
 Rapat : di buka selebar bahu  
 Ditekuk : lurus
- ✓ 25. Pada gerakan memutar sinpai, posisi tangan adalah ..  
 Siap : mengayun : telentang : diam

<<<<<<<<<<<<<<<<<<<<<Good luck>>>>>>>>>>>>>>>>>>>