



PEMERINTAH KABUPATEN SINJAI
SD NEGERI NO. 235 TARANGKEKE
PENILAIAN AKHIR TAHUN (PAT)
TAHUN PELAJARAN 2022 / 2023

Alamat : Jln Veteran selatan NO.C.28 Kec. Sinjai Tengah

Nama	:	Hari, Tanggal	:
Kelas / Semester	: V (Lima) / DUA	Tema	: 7. Peristiwa dalam Kehidupan

Selesaikanlah soal di bawah ini dengan tepat!

Pilihan Ganda

PKN

Tahukah kamu, negara kita tercinta, Indonesia adalah negara kesatuan yang menjunjung tinggi keberagaman, lho! **Masyarakat Indonesia adalah masyarakat majemuk** yang terdiri dari berbagai macam ras dan suku bangsa. Ras dan suku bangsa tersebut tersebar dari Sabang sampai Merauke. Keberagaman ini merupakan hal yang harus kita syukuri. Sekarang, yuk kita mengenal ras dan suku bangsa di Indonesia, supaya makin cinta dan bangga dengan Indonesia.

- ✚ Keberagaman ras di Indonesia dikategorikan berdasarkan ciri-ciri fisiknya. Ada 4 kelompok ras di Indonesia. Apa saja, ya? Yuk, kita simak penjelasannya di bawah ini: Kelompok ras **Papua Melanezoid**, mayoritas di Papua, Pulau Aru, dan Pulau Kai.
- ✚ Kelompok ras **Negroid**, contohnya orang Semang di semenanjung Malaka dan orang Mikopsi di Kepulauan Andaman.
- ✚ Kelompok ras **Weddoid**, antara lain orang Sakai di Siak Riau, orang Kubu di Sumatra Selatan dan Jambi, orang Tomuna di Pulau Muna, orang Enggano di Pulau Enggano, dan orang Mentawai di Kepulauan Mentawai.
- ✚ Kelompok ras **Melayu Mongoloid**, yang terdiri dari 2(dua) golongan, yaitu **Ras Proto Melayu** atau **Melayu Tua** (terdiri dari Suku Batak, Toraja, dan Dayak) dan **Ras Deutro Melayu** atau **Melayu Muda** (beranggotakan antara lain Suku Bugis, Madura, Jawa, dan Bali).



Selain 4 kelompok ras yang sudah disebutkan, di Indonesia juga terdapat kelompok ras keturunan, antara lain **kelompok ras keturunan Tionghoa, Arab, dan India**. Semua kelompok ras di Indonesia hidup rukun dan damai, lho! Senang sekali melihatnya, ya.

1. Berdasarkan ciri-ciri fisiknya, Keberagaman ras di Indonesia ada empat, yaitu ...
 - a. ras **Papua Melanezoid**, mayoritas di Papua, Pulau Aru, dan Pulau Kai
 - b. ras **Papua Melanezoid**, Pulau Enggano, Pulau Aru, dan Pulau Kai
 - c. mayoritas di Papua, Pulau Aru, **Melayu** atau **Melayu Tua**
 - d. Pulau Enggano, dan orang Mentawai di Kepulauan Mentawai
2. Gambar di bawah ini menunjukkan bahwa di dalam masyarakat Indonesia terdapat....



- a. Keragaman Religi
 - b. Keragaman pakaian adat
 - c. Keragaman makanan
 - d. Keragaman tempat beribadah
3. Lani berasal dari suku Jawa. Saat ada pagelaran budaya di sekolah, Lani dan teman-teman diminta untuk menampilkan tarian Pendet dari Bali. Sikap Lani yang sesuai dengan upaya melestarikan budaya nasional adalah ...
 - A. Tidak melaksanakan dengan penuh tanggung jawab
 - B. Tetap mempelajari tarian Pendet
 - C. Menolak karena bukan dari daerah asalnya

D. acuh – tak acuh

Bhineka Tunggal Ika sering kali diterjemahkan dengan makna 'Berbeda beda tetapi tetap satu'. Kalimat tersebut jika di terjemahkan per kata, 'Bhineka' artinya beraneka ragam atau berbeda beda. Kata Tunggal' berarti satu. Ika berarti itu. Semboyan Bhineka Tunggal Ika merupakan kutipan yang berasal dari kitab Sutasoma karya Mpu Tantular.

4. Indonesia terdiri dari beragam suku dan budaya yang tersebar dari sabang sampai marauke, namun hal itu bukan yang menyebabkan pemecahan bangsa. Negara kita mempunyai semboyan untuk membina persatuan yaitu.....
- Tut Wuri Handayani
 - Garuda Pancasila
 - Bhineka Tunggal Ika
 - Ing ngarso Sung tuladha
5. Istilah Bhineka Tunggal Ika di ambil dari buku.....
- Sutasoma
 - Negara kertagama
 - Arjuna wiwaha
 - Ramayana

Budaya merupakan segala sesuatu yang dihasilkan oleh akal budi manusia . adapun unsure dari budaya antara lain ;

- Sistem mata pencaharian hidup, adalah segala usaha manusia untuk mendapatkan barang atau jasa yang dibutuhkan contohnya mengumpulkan makanan, bercocok tanam, perikanan, peternakan dan perdagangan
 - System kemasyarakatan, adalah sekelompok orang yang merasa satu dengan sesamanya, contohnya system kesatuan hidup dan perkumpulan
 - Bahasa , merupakan wujud budaya yang digunakan manusia untuk Saling berkomunikasi atau berinteraksi , baik secara lisan , tulisan maupun bahasa isyarat.
 - Kesenian, adalah ekspresi manusia akan keindahan yang dapat dinikmati mata atau puntelinga
 - System pengetahuan, adalah segala sesuatu yang diketahui manusia tentang lingkungannya. Contohnya pengetahuan yang dimiliki manusia digunakan untuk bertahan hidup.
 - Religi, adalah suatu bentuk keyakinan manusia terhadap Tuhan Yang Maha Esa
6. Berdasarkan pernyataan dibawah berilah tanda centang (v) kolom benar atau salah berdasarkan teks di atas dengan tepat !

Pernyataan	Benar	Salah
Segala usaha manusia untuk mendapatkan barang atau jasa yang di butuhkan adalah system mata pencaharian hidup		
Mengumpulkan makanan, bercocoktanam , perikanan , peternakan dan perdagangan adalah salah contoh dari system masyarakat		
Ssuatu bentuk keyakinan manusia terhadap Tuhan Yang Maha Esa (religi/ kepercayaan)		
Sistem pengetahuan adalah segala sesuatu yang diketahui manusia tentang lingkungannya, contoh saling berkomunikasi atau berinteraksi baik lisan, tulisan atau bahasa isyarat		

Benda padat adalah benda yang bentuknya tidak berubah walaupun berada di berbagai wadah. benda padat dapat berubah bentuk dengan jalan dipotong, dilipat, dipahat, atau disusun. contohnya pensil penghapus, pulpen, penggaris, dan buku tulis. Benda cair adalah benda yang bentuknya selalu mengikuti wadahnya contohnya, air, minyak, sirup dan susu cair, benda gas adalah benda yang bentuknya tidak tetap. benda gas terdiri dari zat penyusun yang letaknya saling berjauhan. Benda gas tidak terlihat oleh mata tetapi dapat dirasakan keberadaannya. contohnya udara didalam balon dan udara yang dihirup

7. Mengalir ke celah – celah kecil merupakan salah satu sifat....

- a. Benda gas c. bendacair
- b. Benda padat d. benda lunak

8. Bentuk sesuai tempat dan memenuhi ruangan merupakan sifat dari.....

- a. Benda padat c. benda cair
- b. Benda gas d. benda lunak



9. Berdasarkan gambar diatas terjadi perubahan wujud dari benda.....

- a. Cair menjadi gas c. padat menjadi gas
- b. Gas menjadi cair d. cair menjadi padat

10. Peristiwa berikut adalah yang menunjukkan adanya peristiwa menguap adalah.....

- a. Es yang dipanaskan lama kelamaan akan menjadi air
- b. Bensin di biarkan ditempat terbuka lama kelamaan akan habis
- c. Kapur barus yang disimpan dalam lemari lama kelamaan akan habis
- d. Es di dalam gelas dibiarkan lama kelamaan permukaan gelas terdapat titik- titik air

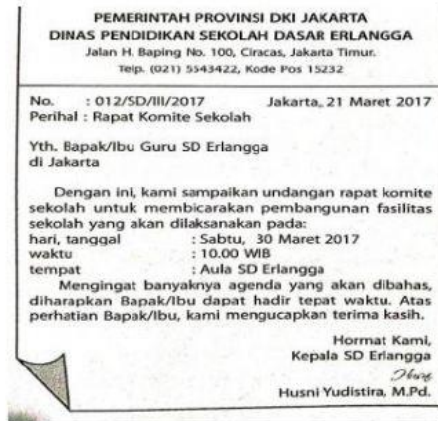
11. Peristiwa pengembunan adalah perubahan wujud....

- a. Padat menjadi gas c. gas menjadi cair
- b. Cair menjadi gas d. padat menjadi gas

12. Berdasarkan pernyataan dibawah ini berilah tanda centang (✓) kolom benar atau salah dengan tepat !

Pernyataan	Benar	Salah
Perubahan benda yang dapat kembali ke wujud semula disebut perubahan sementara		
Perubahan yang tidak dapat kembali ke wujud semula disebut perubahan tetap		
Es batu yang awalnya membeku saat dibiarkan ditempat terbuka menjadi cair adalah contoh perubahan wujud benda yang bersifat tetap		
Beras yang dimasak akan berubah menjadi nasi, tetapi nasi tidak dapat berubah kembali menjadi beras adalah contoh perubahan yang bersifat sementara		

MENJODOHKAN
BAHASA INDONESIA

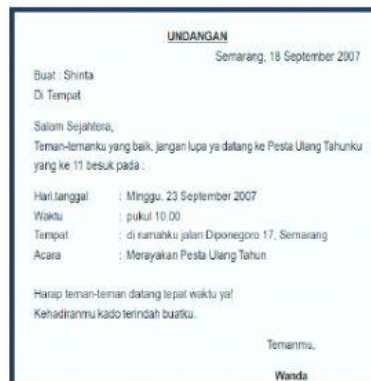


13. pasanglah beberapa pernyataan berikut berdasarkan contoh surat undangan di atas!

1	Kop surat		A	Keterangan singkat maksud surat
2	Perihal surat		B	Menunjukkan waktu dan tempat dibuatnya surat
3	Tanggal surat		C	Identitas Instansi beserta alamatnya
4	Alamat tujuan		D	Identitas penerima surat



Gambar A



Gambar B




Gambar C

14. Pasangkanlah jenis-jenis surat undangan berikut berdasarkan surat undangan di atas !

Gambar A	•	•	Surat undangan tidak resmi
Gambar B	•	•	Surat undangan resmi
Gambar C	•	•	Surat undangan setengah resmi

ISIAN

SBDP



15. lagu dengan judul 'Syukur' dinyanyikan dengan tempo.....

16. Birama lagu Syukur adalah.....

17. Perhatikan gambar tarian daerah berikut !



Tari Samandari Aceh



Tari Kecak dari Bali



Tari Padduppadari Sulawesi Selatan

Yang menggunakan pola lantai melengkung pada gambar tarian daerahdi atas adalah

18. Perhatikan gambar tarian daerah berikut!



Polal antai yang digunakan pada gambar tari Piring di samping adalah

URAIAN

IPS

Undang-Undang Dasar Negara Republik Indonesia Tahun 1945 atau disingkat UUD 1945. Pengesahan UUD 1945 pun menjadi hari yang bersejarah karena dilaksanakan sehari setelah hari Kemerdekaan Republik Indonesia (RI). Sebelum disahkan, UUD 1945 dibentuk oleh Usaha Persiapan Kemerdekaan Indonesia (BPUPKI) atau badan yang menyusun rancangan UUD 1945, yang terbentuk pada tanggal 29 April 1945.

19. Pada tanggal berapakah UUD 1945 disahkan?

Jawab :

20. Perhatikan gambar tokoh-tokoh berikut !



Berdasarkan gambar di atas, tuliskan 3 tokoh yang membuat usulan dasar negara Pancasila !

Jawab :

.....