

# **LEMBAR KERJA PESERTA DIDIK (LKPD)**

## **TEMA 5 EKOSISTEM SUBTEMA 2 HUBUNGAN ANTAR MAKHLUK HIDUP DALAM EKOSISTEM KELAS 5**



**Nama / No. Urut :**



# **Petunjuk Penggunaan LKPD**

**Perhatikan hal-hal berikut :**

- 1. Berdoa sebelum belajar**
- 2. Baca dan pahami petunjuk kegiatan dengan cermat**
- 3. Manfaatkan video pembelajaran melalui link yang tercantum dalam LKPD untuk memudahkan proses belajar**
- 4. Baca dengan cermat dan pahami materi**
- 5. Apabila terdapat kesulitan, Ananda dapat langsung menanyakan kepada guru.**

**Selamat Mengerjakan!**







## RINGKASAN MATERI

**Mari Kita Simak Video Berikut Ini!**

**Setelah Ananda menyimak video tersebut, sebutkan 5 kata kunci yang berkaitan dengan "Ekosistem"**



# PILIHAN GANDA

**Pilihlah salah satu jawaban yang benar!**

1. Suatu sistem ekologi yang terbentuk dari hubungan timbal balik antara makhluk hidup dengan lingkungannya disebut?

- a. Komunitas
- b. Ekosistem
- c. Populasi
- d. Biosfer

2. Makhluk hidup bertempat tinggal di suatu tempat. Sebuah tempat yang menjadi tempat hidup bagi makhluk hidup dinamakan ...

- a. Populasi
- b. Habitat
- c. Ekosistem
- d. Ekologi
- e. Komunitas

3. Berikut ini yang merupakan contoh tumbuhan bukan produsen ialah ...

- a. Bayam
- b. Rumput
- c. Mangga
- d. Kangkung
- e. Jamur





# MENJODOHKAN

Hubungkan gambar dengan menarik garis lurus!



**Simbiosis  
Komensalisme**



**Simbiosis  
Parasitisme**



**Simbiosis  
Mutualisme**



# ISIAN SINGKAT

Jawablah soal berikut dengan jawaban yang singkat!



**1. Beberapa kumpulan rantai makanan yang saling berkaitan atau berhubungan dinamakan dengan**


**2. Dalam ekosistem terdapat 2 komponen yaitu komponen dan**

**3. Manusia, hewan, tumbuhan dan berbagai mikroorganisme termasuk ke dalam komponen**

**4. Matahari, air, udara, bebatuan dan tanah termasuk ke dalam**

**5. Hubungan ketergantungan antara dua makhluk hidup atau lebih yang hidup bersama disebut dengan**



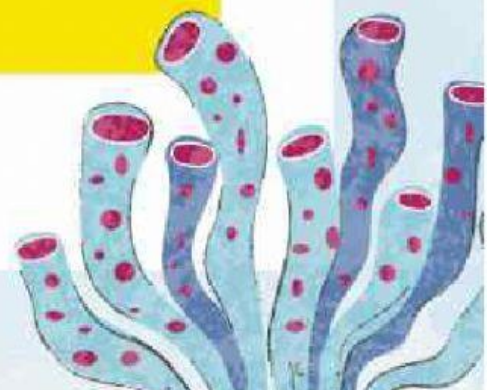



# URAIAN

Uraikan jawaban soal berikut dengan benar!

**1. Jelaskan apa yang dimaksud dengan ekosistem alami dan berikan contohnya!**

**2. Jelaskan apa yang dimaksud dengan ekosistem buatan dan berikan contohnya!**











# DRAG AND DROP

Pasangkan sesuai dengan jawaban yang benar  
pada kotak dibawah!



**ekosistem**

**komunitas**

**populasi**

**individu**

