

LEMBAR KERJA PESERTA DIDIK (LKPD)

TEMA 5 EKOSISTEM SUBTEMA 2 HUBUNGAN ANTAR MAKHLUK HIDUP DALAM EKOSISTEM KELAS 5



Nama / No. Urut :



Petunjuk Penggunaan LKPD

Perhatikan hal-hal berikut :

- 1. Berdoa sebelum belajar**
- 2. Baca dan pahami petunjuk kegiatan dengan cermat**
- 3. Manfaatkan video pembelajaran melalui link yang tercantum dalam LKPD untuk memudahkan proses belajar**
- 4. Baca dengan cermat dan pahami materi**
- 5. Apabila terdapat kesulitan, Ananda dapat langsung menanyakan kepada guru.**

Selamat Mengerjakan!





RINGKASAN MATERI

Mari Kita Simak Video Berikut Ini!

Setelah Ananda menyimak video tersebut, sebutkan 5 kata kunci yang berkaitan dengan "Ekosistem"



PILIHAN GANDA

Pilihlah salah satu jawaban yang benar!

1. Suatu sistem ekologi yang terbentuk dari hubungan timbal balik antara makhluk hidup dengan lingkungannya disebut?

- a. Komunitas
- b. Ekosistem
- c. Populasi
- d. Biosfer

2. Makhluk hidup bertempat tinggal di suatu tempat. Sebuah tempat yang menjadi tempat hidup bagi makhluk hidup dinamakan ...

- a. Populasi
- b. Habitat
- c. Ekosistem
- d. Ekologi
- e. Komunitas

3. Berikut ini yang merupakan contoh tumbuhan bukan produsen ialah ...

- a. Bayam
- b. Rumput
- c. Mangga
- d. Kangkung
- e. Jamur



MENJODOHKAN

Hubungkan gambar dengan menarik garis lurus!



**Simbiosis
Komensalisme**



**Simbiosis
Parasitisme**



**Simbiosis
Mutualisme**

ISIAN SINGKAT

Jawablah soal berikut dengan jawaban yang singkat!



1. Beberapa kumpulan rantai makanan yang saling berkaitan atau berhubungan dinamakan dengan

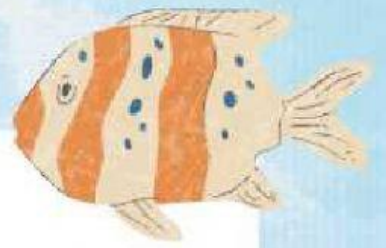
2. Dalam ekosistem terdapat 2 komponen yaitu komponen dan

3. Manusia, hewan, tumbuhan dan berbagai mikroorganisme termasuk ke dalam komponen

4. Matahari, air, udara, bebatuan dan tanah termasuk ke dalam

5. Hubungan ketergantungan antara dua makhluk hidup atau lebih yang hidup bersama disebut dengan






URAIAN

Uraikan jawaban soal berikut dengan benar!

1. Jelaskan apa yang dimaksud dengan ekosistem alami dan berikan contohnya!


2. Jelaskan apa yang dimaksud dengan ekosistem buatan dan berikan contohnya!





DRAG AND DROP

Pasangkan sesuai dengan jawaban yang benar
pada kotak dibawah!



ekosistem

komunitas

populasi

individu

