 Manahej	Département de Sciences	Évaluation 3: Les états de la matière
	EB3	Note: 5

Exercice 1:

Choisis la bonne réponse. (1.5 pt.)

1-Tout ce qui nous entoure est formé de la :

solide

matière

gaz

2-Il existe ----- états de la matière.





deux

trois

quatre

Exercice 2 (1.5 pt.)





Choisis l'intrus dans chaque groupe.

 Vase	 Couteau
 Eau	 Camion

 Huile	 Jus
 Eau	 Voiture

Exercice 3 (2 pts.)

Choisis l'état de matière convenable à chaque objet.

 Cuillère	solide	liquide	gaz
 L'air dans les ballons	solide	liquide	gaz
 Stylo	solide	liquide	gaz
 Lait	solide	liquide	gaz