
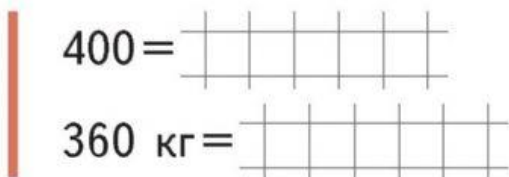
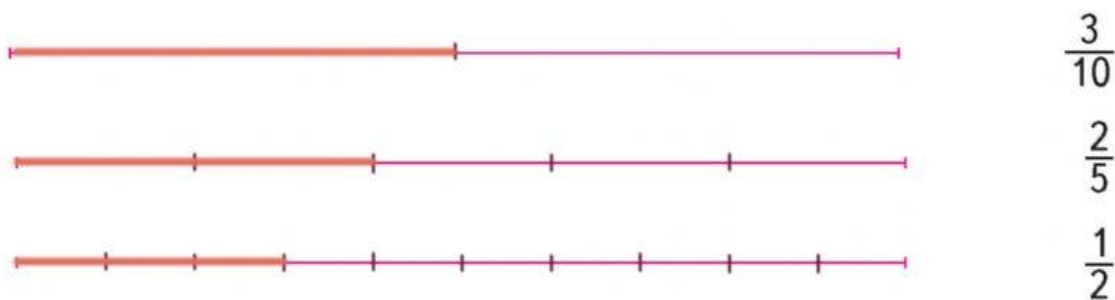




1. Знайди $\frac{1}{4}$ від:




2. Поєднай дріб та частину відрізка.



3. Розв'яжи задачу.

У Даринки було 280 грн. $\frac{5}{7}$ грошей вона витратила на покупку книжки. $\frac{3}{4}$ залишку — на покупку фломастерів. Чи вистачить Даринці коштів ще на покупку морозива, вартість якого 25 грн?



4. Порівняй.



$\frac{3}{4}$ км ○ 750 м

$\frac{3}{10}$ т ○ 2 ц

$\frac{4}{5}$ кг ○ 800 г

$\frac{5}{6}$ хв ○ 50 с