

LAS DISOLUCIONES

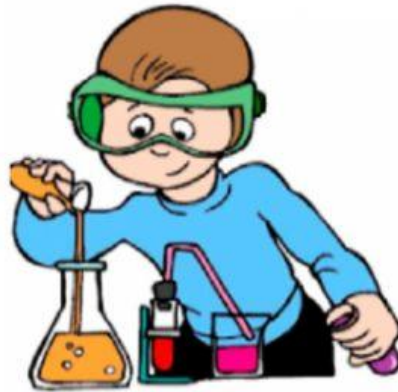
1. Completa.

no





mezclas

disoluciones

Las _____ son _____ en las que _____ se pueden distinguir los componentes que la forman.



2. Clasifica.

DISOLUCIÓN	MEZCLA QUE NO SE DISUELVE
	
	



3. Marca las mezclas que sean una disolución.

