




Penilaian Sumatif 1

Ilmu Pengetahuan Alam



Nama : _____

Kelas : _____

Hari/Tanggal: _____

I. Berilah tanda silang (X) pada huruf A, B, C atau D di depan jawaban yang paling tepat !

1. Yang termasuk ciri-ciri masa pubertas laki-laki adalah tumbuh

A. payudara

C. pinggul membesar

B. jakun

D. menstruasi

2. Yang termasuk ciri-ciri masa pubertas perempuan adalah tumbuh

A. payudara

C. penis membesar

B. jakun

D. kumis dan jenggot

3. Mengalami menstruasi adalah ciri-ciri masa pubertas

A. anak-anak

C. laki-laki

B. bayi

D. perempuan

4. Tumbuh kumis dan jenggot adalah ciri-ciri masa pubertas

A. anak-anak

C. laki-laki

B. bayi

D. perempuan


5. Kesamaan ciri-ciri laki-laki dan perempuan pada masa pubertas adalah

A. penis membesar

C. jerawat di wajah

B. payudara membesar

D. pinggul membesar

6.  Gambar disamping adalah ciri-ciri laki-laki adalah

A. jerawat di wajah

B. tumbuh bulu di ketiak

C. penis membesar

D. tumbuh kumis dan jenggot

7.



Gambar disamping adalah ciri-ciri laki-laki adalah

- A. jerawat di wajah
- B. tumbuh bulu di ketiak
- C. penis membesar
- D. tumbuh jakun

8.



Gambar disamping adalah ciri-ciri laki-laki adalah

- A. jerawat di wajah
- B. tumbuh bulu di ketiak
- C. penis membesar
- D. tumbuh jakun

9.



Gambar disamping adalah ciri-ciri perempuan adalah

- A. jerawat di wajah
- B. tumbuh bulu di ketiak
- C. pinggul membesar
- D. mengalami menstruasi

10.

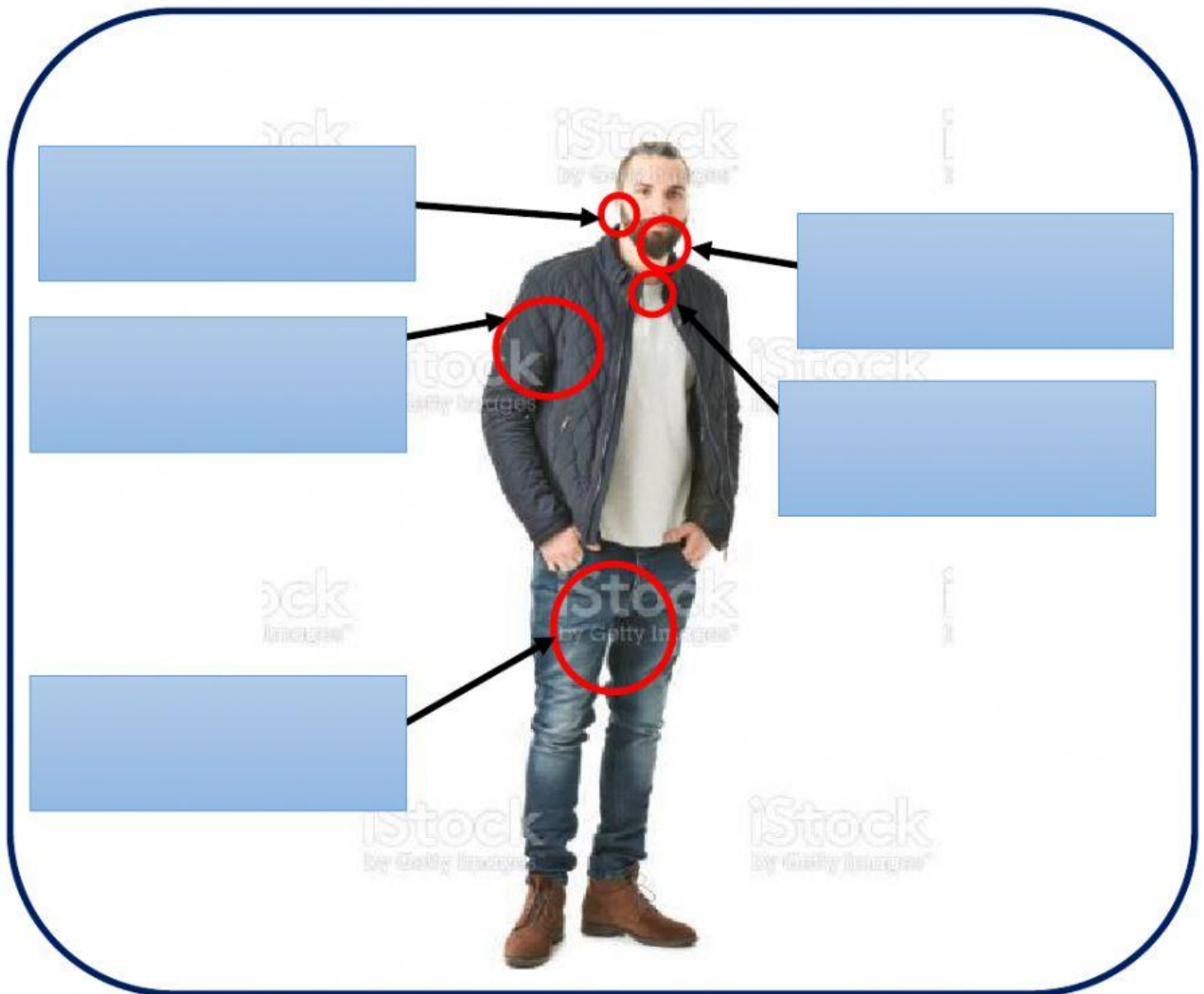


Gambar disamping adalah ciri-ciri perempuan adalah

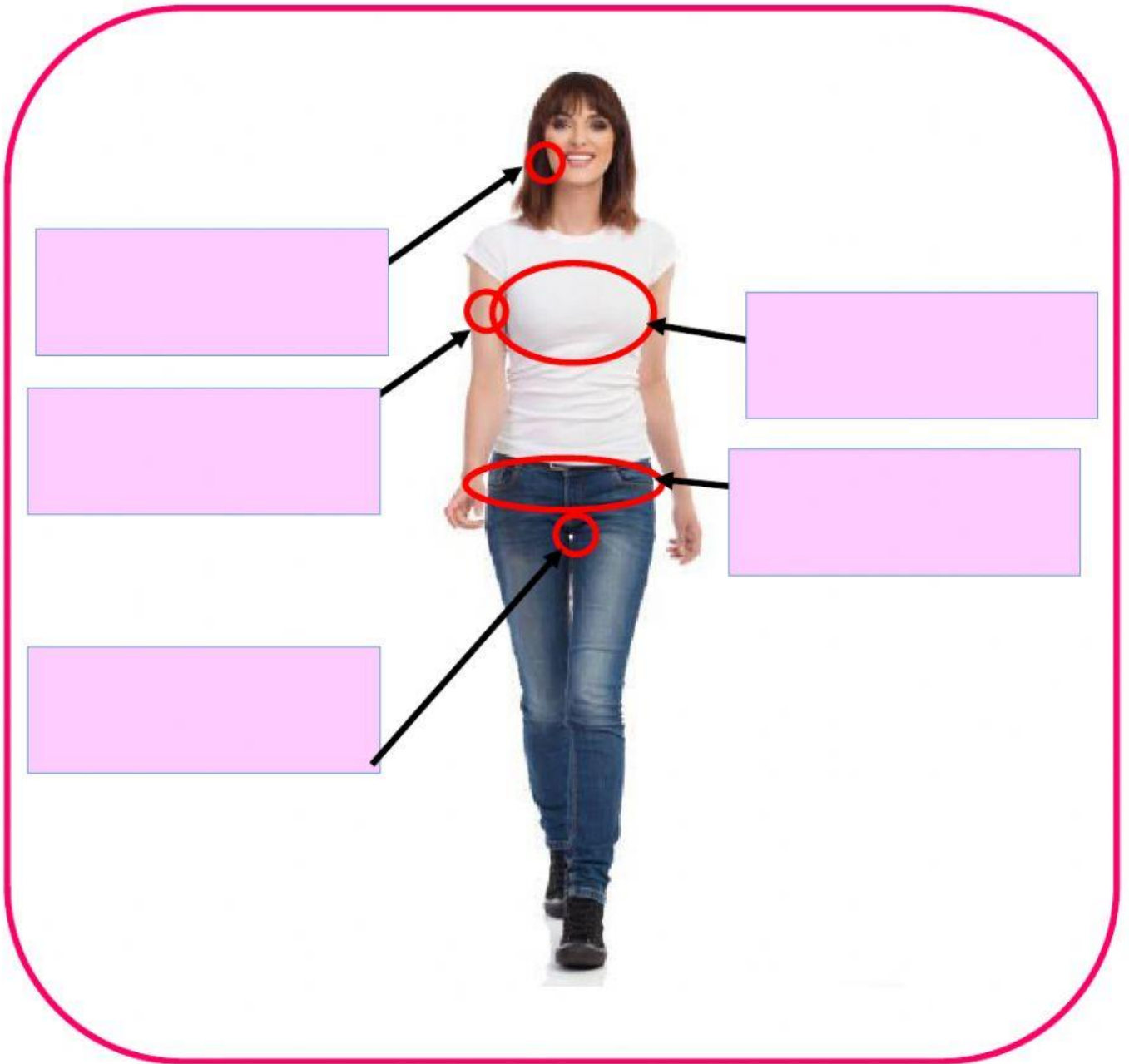
- A. jerawat di wajah
- B. tumbuh bulu di ketiak
- C. pinggul membesar
- D. mengalami menstruasi

II. Isilah kolom berikut dengan tepat!

Ciri-ciri Pubertas pada Laki-laki



Ciri-ciri Pubertas pada Perempuan



**** Semoga Berhasil 😊😊😊 ****