

## TRABAJO PRÁCTICO DE MATEMÁTICA

### Aproximación y estrategias de cálculos.



#### 1) **Leé la siguiente situación y resolvé:**

Martín compró para cenar con su mamá una pizza, una Gaseosa y un postre. Mirá los precios:



\$ 93

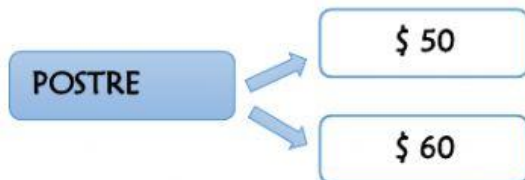
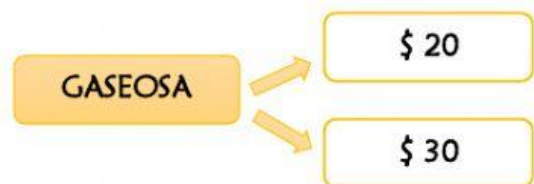
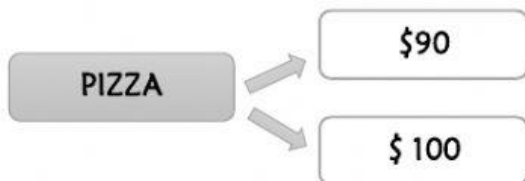


\$ 24



\$ 51

A- Seleccioná el precio aproximado para cada para cada producto:



B- ¿CUÁL ES EL VALOR DE LA COMPRA? RESOLVÉ LA SUMA:

9	3
5	1
2	4

- MARCÁ EL VALOR APROXIMADO DE LA COMPRA TOTAL:

160

150

170

1) MARCÁ EL VALOR APROXIMADO:

195

134

121

190

100

110

200

120

130

180

130

120

3) REALIZÁ ESTAS SUMAS:

9	9
+	1

8	7
+	1

1	2	6
+	2	0

1	3	0
+	5	1

