

1. Negara Indonesia merupakan negara kepulauan terbesar yang memiliki letak geografis yang unik dan strategis. Letak geografis Indonesia berada diantara dua Samudera, yaitu

- A. Samudera Hindia dan Samudera Pasifik
- B. Samudera Atlantik dan Samudera Pasifik
- C. Samudera Pasifik dan Samudera Arktik
- D. Samudera Hindia dan Samudera Atlantik

2. Siti mengamati gambar peta Jawa Tengah yang ada dalam atlas. Pada peta, letak kota atau tempat dinyatakan dengan

- A. garis lintang dan garis bujur
- B. skala
- C. simbol
- D. arah mata angin

3. Letak suatu wilayah berdasarkan garis bujur dan garis lintang pada peta disebut letak

- A. geografis
- B. astronomis
- C. astrologis
- D. khatulistiwa

4. Selain memiliki letak geografis, Indonesia juga memiliki letak astronomis. Letak astronomis Indonesia yaitu antara

- A. 6° LU – 10° LS
- B. 11° LU – 95° LS
- C. 6° LU – 11° LS
- D. 11° LU – 141° LS

5. Ketampakan alam adalah berbagai bentuk muka bumi yang terjadi secara alamiah. Ketampakan alam dikenal juga dengan istilah

- A. sumber daya alam
- B. bentang alam
- C. cagar alam
- D. wisata alam

6. Ketampakan alam terdiri atas perairan dan daratan. Bentuk ketampakan alam berupa daratan contohnya adalah

- A. sungai
- B. pegunungan
- C. danau
- D. laut

7. Manusia hidup beradaptasi sesuai dengan alam dan ketampakan alam di lingkungan tempat tinggalnya termasuk dalam hal mata pencaharian. Masyarakat yang tinggal di daerah pantai mayoritas memiliki mata pencaharian sebagai

- A. pekebun
- B. petani
- C. nelayan
- D. wiraswasta

8. Manusia mempunyai beragam kebutuhan untuk melanjutkan kehidupannya. Untuk memenuhi beragam kebutuhan tersebut manusia melakukan kegiatan yang disebut

- A. kegiatan ekonomi
- B. kegiatan sosial
- C. kegiatan politik
- D. kegiatan komunikasi

9. Pak Eko memanfaatkan empang di sebelah rumahnya untuk pembudidayaan udang. Kegiatan ekonomi yang dilakukan oleh Pak Eko adalah
 - A. Pertanian
 - B. Perikanan
 - C. Pertambangan
 - D. perindustrian
10. Usaha pertanian merupakan usaha yang paling banyak ditemukan dalam masyarakat Indonesia. Hal ini sesuai dengan keadaan alam Indonesia sebagai negara
 - A. maritim
 - B. agraris
 - C. astronomis
 - A. geografis
11. Terdapat bentuk usaha dalam kegiatan ekonomi di Indonesia. Salah satunya adalah usaha untuk mengubah bahan mentah menjadi bahan setengah jadi atau barang jadi. Bentuk usaha tersebut dinamakan
 - A. peternakan
 - B. perdagangan
 - C. industri
 - D. jasa
12. Usaha jasa adalah usaha menyediakan jasa bukan produk benda untuk mendapatkan keuntungan atau laba. Salah satu pekerjaan yang merupakan bagian dari usaha jasa adalah
 - A. petani
 - B. nelayan
 - C. tukang cilok
 - D. guru
13. Berdasarkan pengelolanya, usaha ekonomi terdiri dari usaha ekonomi yang dikelola sendiri dan kelompok. Contoh usaha ekonomi yang dikelola oleh kelompok diantaranya adalah
 - A. Usaha jasa, PT, dan CV
 - B. Usaha pertanian, BUMN, dan PT
 - C. Firma, PT, dan BUMN
 - D. Industri kecil, usaha jasa, dan CV
14. Kegiatan utama yang dilakukan dalam bidang ekonomi terdiri dari produksi, distribusi dan konsumsi. Orang yang melakukan kegiatan produksi disebut
 - A. prodaktor
 - B. produsen
 - C. konsumen
 - D. distributor
15. Pak Rudi mempunyai peternakan ulat sutera. Ulat sutera dibudidayakan untuk diambil benangnya. Pak Rudi menjual benang sutera kepada pemilik industry pakaian. Berdasarkan kegiatan ekonominya, Pak Rudi disebut sebagai
 - A. Produsen
 - B. Distributor
 - C. Konsumen
 - D. kolektor
16. Jenis usaha jasa mengutamakan
 - A. keahlian
 - B. modal
 - C. fasilitas
 - D. tempat

17. Masalah ekonomi yang dihadapi oleh manusia adalah kelangkaan. Kelangkaan terjadi karena

- A. Kebutuhan manusia tidak terbatas dan alat pemenuhan kebutuhannya tidak terbatas
- B. Kebutuhan manusia tidak terbatas dan alat pemenuhan kebutuhannya terbatas
- C. Kebutuhan manusia terbatas sementara alat pemenuhan kebutuhannya tidak terbatas
- D. Kebutuhan manusia terbatas dan alat pemenuhan kebutuhan manusianya terbatas juga

18. PT Garuda Indonesia Airlines, PT Pelni (Pelayaran Nasional Indonesia), dan PT KAI (Kereta Api Indonesia) adalah contoh BUMN jenis ...

- A. perusahaan umum
- B. perusahaan daerah
- C. perusahaan perseroan
- D. perusahaan komanditer

19. Dalam seni musik, tangga nada dibagi menjadi dua, yaitu tangga nada diatonis dan tangga nada pentatonis. Tangga nada diatonis terdiri atas ... nada.

- A. lima
- B. tujuh
- C. delapan
- D. sembilan

20. Salah satu lagu yang menggunakan tangga nada minor adalah "Gugur Bunga". Yang menciptakan lagu "Gugur Bunga" adalah

- A. L Manik
- B. WR Supratman
- C. Ibu Sud
- D. Ismail Marzuki

21. Lagu "Gugur Bunga" memiliki tangga nada

- A. pentatonis mayor
- B. pentatonis minor
- C. diatonis mayor
- D. diatonis minor

22. Setiap lagu akan terdengar lebih indah jika diiringi dengan menggunakan alat musik. Alat musik yang dimainkan dengan cara meniup slang peniup dan menekan tuts adalah

- A. pianika
- B. piano
- C. seruling
- D. saxofon

23. Contoh alat musik ritmis adalah

A.



B.



C.



D.




24. Cermati gambar berikut!



Alat musik melodis pada gambar dimainkan dengan cara

- A. dipetik
- B. ditekan
- C. digesek
- D. ditiup

25. Amati gambar berikut!



Pola lantai yang ditunjukkan oleh gambar dinamakan pola lantai

- A. vertikal
- B. diagonal
- C. lurus
- D. melengkung

26. Dalam melakukan tarian, selain memperhatikan properti yang digunakan, juga harus memperhatikan pola lantai. Pola lantai dengan posisi penari berada pada garis lurus dari depan ke belakang atau sebaliknya dinamakan pola lantai

- A. horizontal
- B. vertikal
- C. diagonal
- D. garis melengkung

27. Pola lantai dibuat dengan tujuan untuk


- A. menonjolkan penampilan tari
- B. mempersulit gerakan tari
- C. menghibur penonton
- D. memperindah pertunjukkan tari

28. Variasi pola lantai dalam tarian berguna untuk menciptakan tarian yang lebih menarik untuk ditonton. Diantara gambar berikut yang merupakan pola lantai vertikal adalah


A.



B.



C.



D.



29. Siti sedang berlatih tari bersama teman-temannya. Coba perhatikan gerak tari yang dilakukan oleh Siti dan teman-temannya berikut!



Pola lantai yang dibentuk oleh Siti dan teman-temannya adalah pola lantai

- A. melengkung
- B. horizontal
- C. vertikal
- D. diagonal

30. Tari Selamat Datang berasal dari

- A. Bali
- B. Jawa
- C. Papua
- D. Sumatera

31. Karya seni rupa daerah dipengaruhi oleh corak seni tradisional. Corak seni tradisional terdiri atas karya seni rupa dua dimensi dan tiga dimensi. Salah satu contoh karya seni rupa dua dimensi adalah

- A. patung
- B. keramik
- C. ukiran kayu
- D. kain batik

32. Cermati gambar gambar berikut!



Gambar tersebut adalah salah satu contoh karya seni ukiran kayu yang berasal dari

- A. Yogyakarta
- B. Jepara
- C. Cirebon
- D. Malang

33. Batik jumputan atau sering disebut juga dengan batik ikat celup adalah kain batik yang menggunakan motif hias jumputan. Kain dengan motif hias jumputan terkenal berada di daerah diantaranya

- A. Yogyakarta
- B. Surabaya
- C. Lombok
- D. Medan

34. Motif batik yang terkenal dari Kota Cirebon adalah

- A. kamboja
- B. garuda
- C. mega mendung
- D. truntum

35. Cermati gambar berikut!



Batik yang dikerjakan dengan cara ikat celup seperti pada gambar adalah batik

- A. jumputan
- B. tulis
- C. cap
- D. lukis