

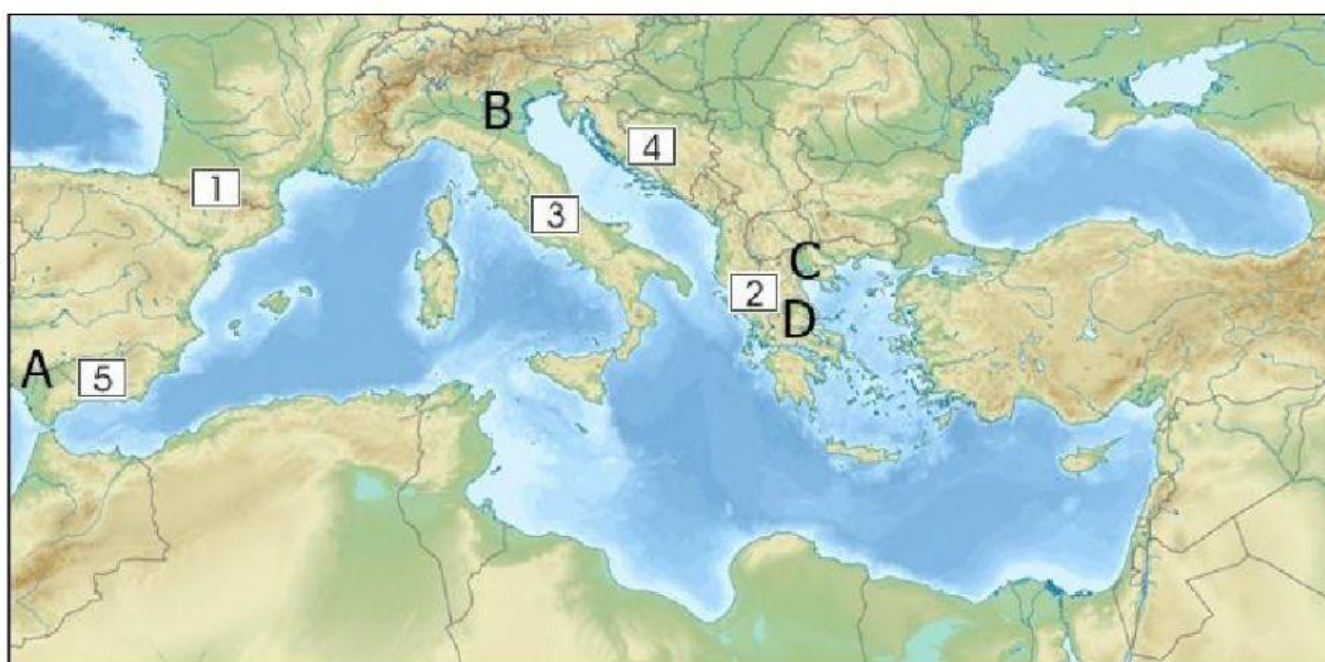
EUROPSKO SREDOZEMLJE

nastavni list za formativno vrednovanje

1. Ako je tvrdnja točna klikni na DA, a ako tvrdnja nije točna klikni na NE.

Drugi naziv za Sredozemlje je Mediteran.	DA	NE
U Europskom Sredozemlju prevladava nizinski reljef.	DA	NE
U Europskom Sredozemlju <u>nisu</u> česti potresi.	DA	NE
Najrasprostranjenije tlo na Europskom Sredozemlju je crvenica.	DA	NE

2. Sljedeće zadatke riješi uz pomoć priložene slijepe karte Europskog Sredozemlja.



Na karti su brojevima označene velike planine. Na crtu pored brojke upiši ime planine.




- 1) 2)
- 3) 4)
- 5)

Na karti su slovima označene nizine Sredozemlja. Na crtu pored brojke upiši ime nizine.

- A) B)
- C) D)

3. Sljedeće zadatke riješi uz pomoć priloženih fotografija.


Fotografije prikazuju tipične krške reljefne oblike Sredozemlja.



.....
Na crte ispod fotografije stavi ime reljefnog oblika koji je prikazan. PAZI, 2 reljefna oblika su višak.

KAMENICA PONIKVA ŠKRAPA ŠPIIJA JAMA

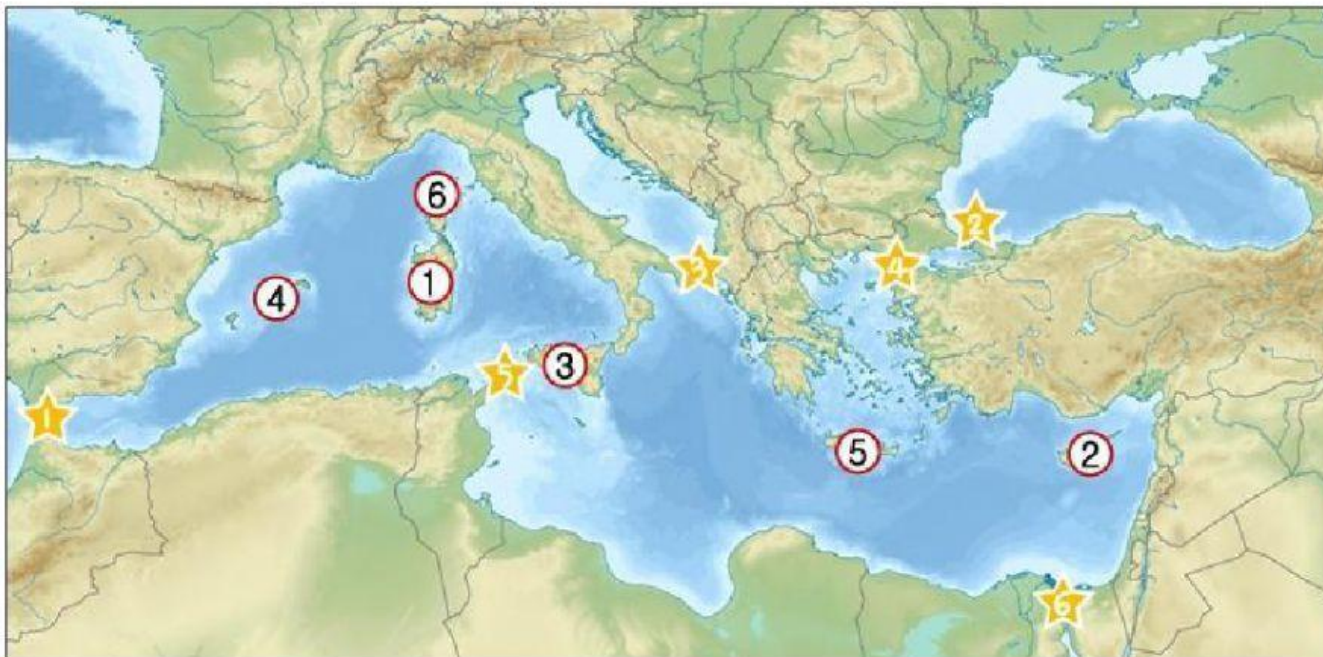
Fotografije prikazuju tipične biljke Sredozemlja.



.....
Na crte ispod fotografije stavi ime biljke koju slika prikazuje. PAZI, 2 biljke su višak.

AGRUMI BADEM LAVANDA MASLINA VINOVA LOZA

4. Sljedeće zadatke riješi uz pomoć priložene karte Sredozemlja.












Na karti su brojevima u kružićima označeni otoci i otočja. Na crtu pored brojke upiši ime otoka ili otočja.

- 1) 2)
 3) 4)
 5) 6)

Na karti su brojevima u zvjezdicama označeni morski prolazi i kanali. Na crtu pored brojke upiši ime prolaza ili kanala.

- 1) 2)
 3) 4)
 5)

5. Ispuni tablicu tako da upišeš imena država ili glavnih gradova država Europskog Sredozemlja.

	IME DRŽAVE	GLAVNI GRAD
	Albanija	
		Andora La Vella
	Grčka	
		Rim
	Malta	
		Lisabon
	San Marino	
		Madrid
	Vatikan	