

كن معي وخذ بيدي

درس : كتابة وقراءة وتجزئة الأعداد

$$= 17 - 24$$

٢- طريقة إضافية للطرح بالعد التصاعدي
طريقة مباشرة ومختصرة بخط الأعداد

أحاد العدد المطروح منه
متتمت العدد ١٧ للعدد ٢٠

بداية العد التصاعدي



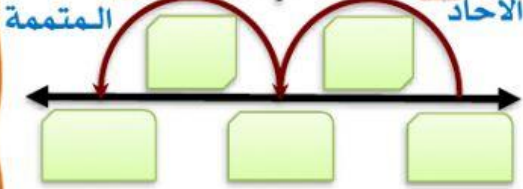
أجمع الأحاد مع المتتمت فأحصل على ناتج الطح

ناتج الطرح

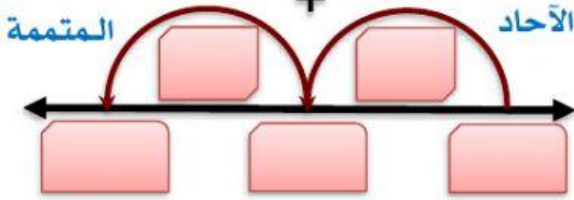
$$7 = 17 - 24$$

$$7 = 4 + 3$$

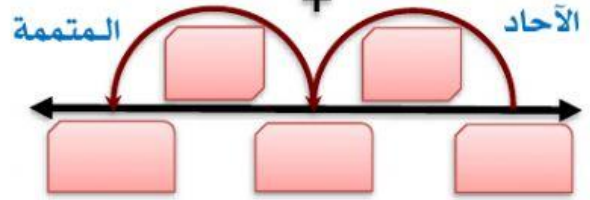
$$= 44 - 56$$



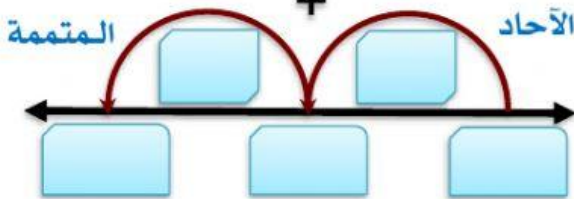
$$= 80 - 94$$



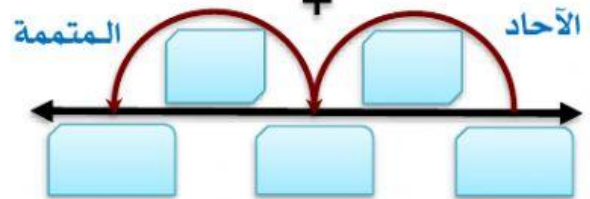
$$= 64 - 78$$



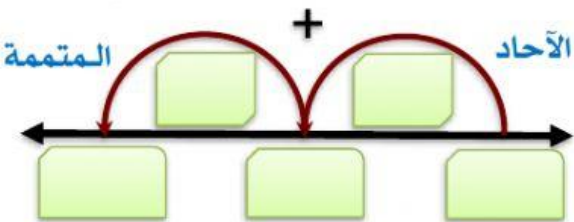
$$= 73 - 89$$



$$= 56 - 62$$



$$= 10 - 24$$



$$= 21 - 36$$

