
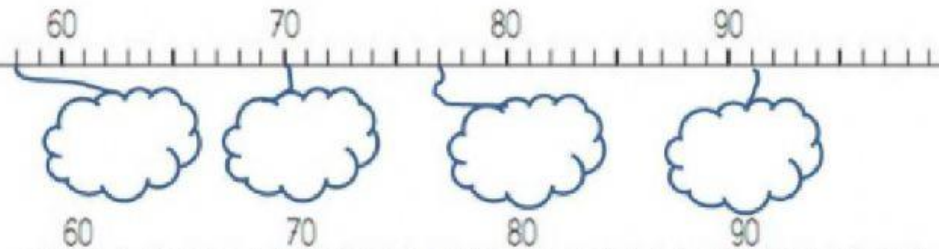
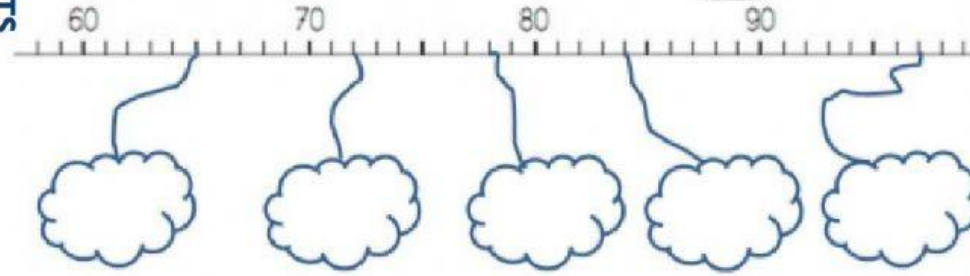




Complète chaque nuage en t'aidant des nombres déjà sur la ligne graduée.



Je calcule avec les dizaines:

$10 + 20 =$  \_\_\_\_\_

$30 + 60 =$  \_\_\_\_\_

$40 + 70 =$  \_\_\_\_\_

$80 + 20 =$  \_\_\_\_\_

$50 + 20 =$  \_\_\_\_\_

$80 - 20 =$  \_\_\_\_\_

$60 - 40 =$  \_\_\_\_\_

$90 - 20 =$  \_\_\_\_\_

$40 - 10 =$  \_\_\_\_\_

$100 - 50 =$  \_\_\_\_\_

Colorie les nombres plus grands que 80:

