



SDN 077 Sejahtera

**LEMBAR KERJA PESERTA DIDIK**

No. 5.3.3/Tema.SD/ III/I/2021

Satuan Pendidikan : **SDN 077 SEJAHTERA**  
 Kelas / Semester : III / Genap  
 Tema 5 : CUACA  
 Sub Tema 3 : Pengaruh Perubahan Cuaca Terhadap Kehidupan Manusia  
 Muatan Terpadu : - Bahasa Indonesia (3.3)  
                           - Matematika (4.5)  
                           - SBdP (3.2)  
                           - PLH  
 Pembelajaran ke : 3  
 Alokasi waktu : 120 menit

## Identitas Peserta Didik

Nama Lengkap :  
 Kelas :  
 No. Absen :

**PENTUNJUK BELAJAR:** Biasakan untuk literasi  
 1. Berdoa dahulu sebelum mengerjakan.  
 2. Bacalah materi kemudian kerjakan soalnya.  
 3. Kerjakan soal sesuai perintah.  
 4. Periksa kembali bilamana sudah menyelesaikan pekerjaannya.

Hari ini Ananda akan belajar tentang teks pengaruh perubahan cuaca, menyelesaikan masalah penjumlahan dan pengurangan pecahan berpenyebut sama dan membuat kreasi garis pada karya dekoratif.

**A. TUJUAN PEMBELAJARAN**


1. Menggali informasi tentang perubahan cuaca dan pengaruhnya terhadap kehidupan manusia yang disajikan dalam bentuk lisan, tulis, visual, dan/atau eksplorasi lingkungan.
2. Menyelesaikan masalah penjumlahan dan pengurangan pecahan berpenyebut sama.
3. Kreasi garis pada karya dekoratif

**B. MATERI DAN SOAL**

Perubahan cuaca tak hanya berpengaruh pada hasil panen. Akan tetapi, juga berpengaruh pada alat transportasi. Saat cuaca hujan, mobil, angkutan kota, bahkan bus akan melaju dengan pelan. Sore itu, Lani akan pergi ke rumah Opa. Ia berangkat naik bus bersama Mama. Perjalanan ditempuh seperempat hari. Cukup lama dan membuat Lani bosan. Lani menulis soal-soal pecahan. Ini dilakukan untuk mengusir rasa bosannya.

Apakah Ananda dapat memecahkan soal-soal pecahan buatan Lani?

Yuk, kita coba selesaikan bersama!



Di dalam bus, Lani membuka bekal makanannya. Lani membawa 10 lapis yang sudah dipotong menjadi 10 bagian sama besar.

Lani makan 3 potong kue. Mama makan 2 potong kue.

Berapa bagian kue yang dimakan Lani dan Mama?

$$\frac{3}{10} + \frac{\boxed{\dots}}{\boxed{\dots}} = \frac{\boxed{\dots}}{\boxed{\dots}}$$



Lani membawa bekal buah apel. Satu buah apel diotong menjadi 8 bagian. Lani makan 4 bagian. Papa makan 2 bagian.

Berapa bagian buah apel yang dimakan Lani dan Papa?

$$\frac{\boxed{\dots}}{8} + \frac{2}{\boxed{\dots}} = \frac{\boxed{\dots}}{\boxed{\dots}}$$





SDN 077 Sejahtera



Sebelum berangkat, Mama menggoreng pempek lenjer. Satu lenjer dipotong menjadi 6 bagian. Lani makan 2 potong. Mama juga makan 2 potong. Berapa potong pempek lenjer tersisa untuk Papa?

$$\begin{array}{|c|} \hline \dots \\ \hline \dots \\ \hline \end{array} + \begin{array}{|c|} \hline \dots \\ \hline \dots \\ \hline \end{array} = \begin{array}{|c|} \hline \dots \\ \hline \dots \\ \hline \end{array}$$



Saat haus, Lani minum air putih dari sebuah botol air mineral. Lani baru minum seperempat air dalam botol. Mama pun minum seperempat air dalam botol.

Berapa banyak air yang telah diminum oleh Lani dan Mama?

$$\begin{array}{|c|} \hline \dots \\ \hline \dots \\ \hline \end{array} + \begin{array}{|c|} \hline \dots \\ \hline \dots \\ \hline \end{array} = \begin{array}{|c|} \hline \dots \\ \hline \dots \\ \hline \end{array}$$

Coba kamu cari kata-kata di dalam kotak ini dengan cermat!

### Cerita Opa



Siti tiba di rumah Opa dengan perasaan senang. Opa pandai bercerita. Berbagai kisah opa ceritakan. Lebih sering  opa saat muda dulu. Kali ini opa bercerita pengalamannya naik pesawat saat  Saat itu, opa diajak berlibur oleh mama dan papahnya. Mereka naik  Opa senang sekali terbang di  Melihat pemandangan di bawah yang sangat indah tiba-tiba, Opa merasakan   mengumumkan cuaca mulai hujan. Suara petir terdengar menggelegar. Awan putih berganti kelabu. Bersyukur, tak lama kemudian cuaca mulai berubah Ketika masuk wilayah yang dituju, cuaca  matahari terlihat bersinar. Pesawat pun dapat  dengan  di

pesawat

pramugari

pengalaman

udara

guncangan

aman

bandara

hujan

cerah

mendarat



SDN 077 Sejahtera

Lani senang mendengarkan cerita Opa. Lani juga senang melihat koleksi lukisan Opa. Banyak sekali gambar yang indah. Opa senang sekali melukis. Lukisannya kebanyakan gambar dekoratif khas Sulawesi. Yuk, kita amati Bersama gambar-gambar pola dekoratif khas Sulawesi.



Motif Paqkadang Pao



Motif Ne' Limbongan



Motif Paq Tedong




Motif Paqsulan Sangbuo

Motif-motif indah tersapat dalam dekorasi eumah adat suku Toraja.

Perhatikan motif-motif tersebut dengan saksama. Kalau akan melihat pola garia pada suatu bidang tertentu.

1. Garis Vertikal
2. Garis zig-zag
3. Garis Horizontal
4. Garis gelombang
5. Garis miring
6. Garis lengkung



Kreasi Garis pada Karya Dekoratif Unsur garis merupakan salah satu unsur utama dalam karya dekoratif.

Terdapat berbagai kreasi garis yang digunakan dalam karya dekoratif, seperti :



Garis Vertikal



Garis zig-zag



Garis Horizontal




Garis gelombang



Garis miring



Garis lengkung







Bencana tanah longsor adalah bencana yang terjadi karena pergerakan tanah atau bebatuan dalam jumlah besar.

Tanda-tanda akan terjadi tanah longsor antara lain:

1. muncul retakan-retakan di lereng yang sejajar dengan arah tebing
2. muncul mata air secara tiba-tiba
3. air sumur di sekitar lereng menjadi keruh
4. tebing rapuh dan kerikil mulai berjatuhan
5. terjadi penurunan permukaan tanah

Penyebab utama terjadinya tanah longsor adalah terganggunya kestabilan lereng. Gangguan ini dapat terjadi secara alami maupun akibat kegiatan atau aktivitas manusia.

Untuk mencegah longsor, caranya dengan tidak melakukan aktivitas yang dapat menimbulkan longsor. Misalnya:

1. tidak menebang atau merusak hutan
2. membuat saluran air hujan
3. menanam tumbuh-tumbuhan berakar kuat di lereng-lereng yang gundul

Penanganan pasca longsor, misalnya dengan menyediakan tempat pengungsian, mengobati luka-luka, menyelamatkan para korban yang kemungkinan tertimbun longsor, memberikan bantuan, Seperti pakaian dan makanan.

Pilihlah jawaban yang benar!

1. Bencana yang terjadi karena adanya pergerakan tanah dalam jumlah besar disebut ....
  - a. longsor
  - b. tsunami
  - c. banjir
  - d. gempa
2. Faktor yang menyebabkan terjadinya tanah longsor adalah ....
  - a. saluran air
  - b. lereng yang gundul
  - c. penanaman rumput
  - d. penyemprotan tanaman
3. Tanda-tanda akan terjadinya tanah longsor adalah seperti ....
  - a. air laut naik
  - b. muncul getaran
  - c. muncul awan debu
  - d. muncul retakan-retakan di lereng
4. Cara untuk mencegah terjadinya longsor adalah ....
  - a. menanam bunga
  - b. menebangi hutan secara liar
  - c. membuang sampah sembarangan
  - d. membangun dinding penahanan di lereng-lereng yang terjal