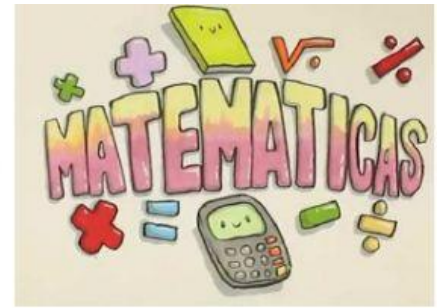
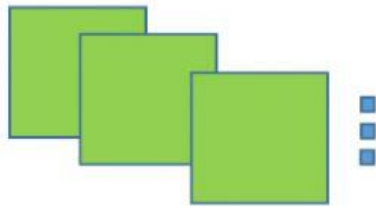


MATEMÁTICAS

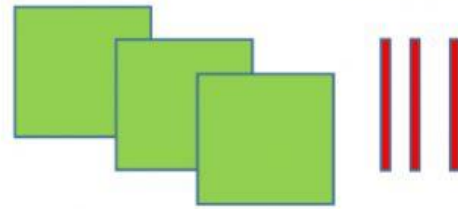


1 Escribe los números correspondientes.



C + D + U

+ + =



C + D + U

+ + =

2 Escribe los números que hay entre 346 y 354 y colorea el número anterior al 349.

--	--	--	--	--	--	--

3 Escribe cómo se leen estos números.

Anterior a 310 →

--

Posterior a 329 →

--

Posterior a 389 →

--

Anterior a 309 →

--

4 Ordena de mayor a menor.

221	321	308	280
-----	-----	-----	-----

--	--	--	--

Ordena de menor a mayor

329	209	199	314
-----	-----	-----	-----

--	--	--	--