

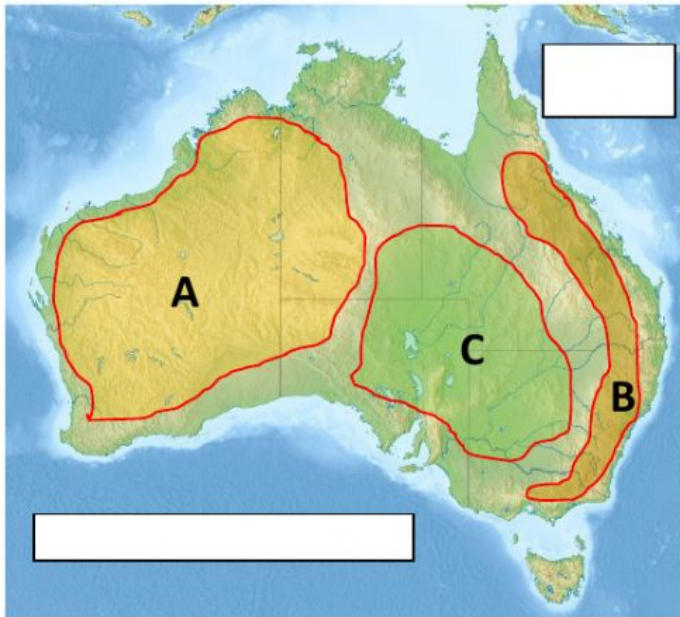
AUSTRALIJA – ZADATCI ZA PONAVLJANJE I PROVJERAVANJE

Nadopuni rečenice!

Australiju je godine otkrio

Australija se nalazi na zemljinoj polutci i na zemljinoj polutci.

Sljedeće zadatke riješi uz pomoć slijepe karte Australije.



U prazne pravokutnike upiši imena oceana koji okružuju Australiju.

Kako se naziva veliki štit koji je na karti označen žutom bojom i slovom A?

.....

Kako se nazivaju mlade planine koje su na karti označene smeđom bojom i slovom B?


.....

Kako se naziva velika zavala koja je na karti označena zelenom bojom i slovom C?

.....

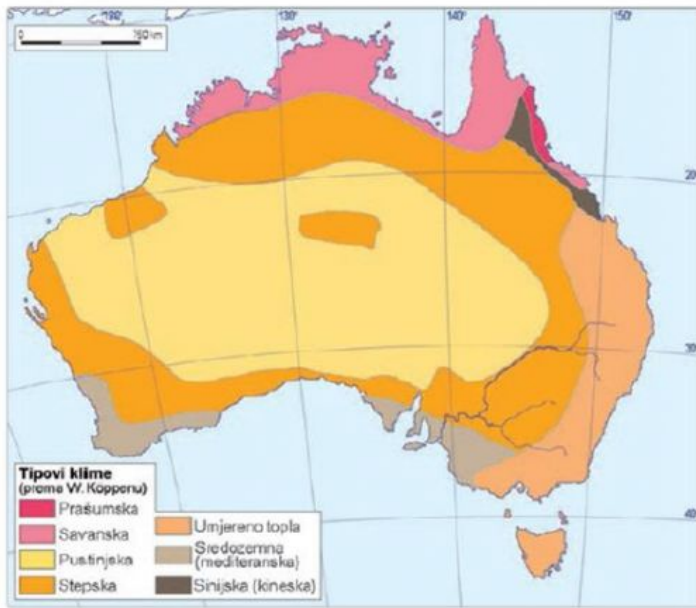
Sljedeće zadatke riješi uz pomoć priloženih slika.

Ispod slike napiši ime životinje koju slika prikazuje.



Kako jednim imenom nazivamo biljke i životinje koje žive samo na jednom mjestu?

Sljedeće zadatke riješi uz pomoć karte klima u Australiji.



↑ Tipovi klime u Australiji

Koji tip klime ima najveći dio Australije?

.....

U kojim prostorima Australije možemo pronaći prašumsku klimu?

.....

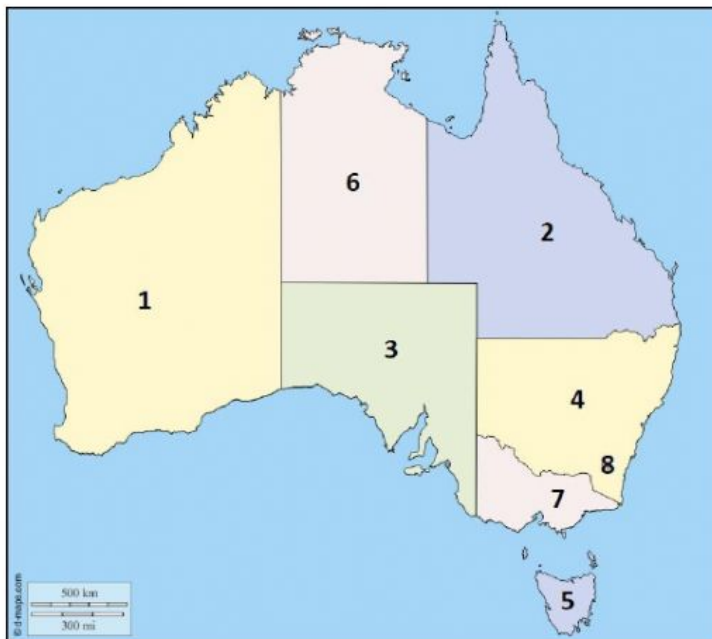
Koja od navedenih klima je najpogodnija za život ljudi?

.....

U kojim prostorima Australije prevladava klima koja je nepogodnija za život ljudi?

.....

Sljedeće zadatke riješi uz pomoć političke karte Australije.



Na crtu pored broja napiši ime savezne države ili teritorija koju taj broj označava.

1

2

3

4

5

6

7

8

Glavni grad australske federacije je, a brojem stanovnika najveći grad je