


100 以内的加减法应用题

加法

1. 子华左手拿着 25 枚回形针，右手拿着 31 枚回形针。他一共有多少枚回形针？

$$\underline{\quad\quad} + \underline{\quad\quad} = \underline{\quad\quad}$$


答：他一共有 枚回形针。



2. 妈妈买了 26 个红苹果和 13 个青苹果。妈妈一共买了多少个苹果？

$$\underline{\quad\quad} + \underline{\quad\quad} = \underline{\quad\quad}$$


答：妈妈一共买了 个苹果。



3. 香林阿姨昨天卖出了 44 块千层蛋糕，今天所卖的千层蛋糕比昨天的多 19 块。香林阿姨今天卖出了多少块千层蛋糕？

$$\underline{\quad\quad} + \underline{\quad\quad} = \underline{\quad\quad}$$

答：香林阿姨今天卖出了 块千层蛋糕。



4. 小艾养了 26 条金鱼，爸爸再给她买了 25 条金鱼。现在小艾的鱼缸里有多少条金鱼？

$$\underline{\quad\quad} + \underline{\quad\quad} = \underline{\quad\quad}$$

答：现在小艾的鱼缸里有 条金鱼。

