

SEKOLAH MENENGAH FELDA KAHANG TIMUR

NAMA: \_\_\_\_\_





TINGKATAN: 2 \_\_\_\_\_

MODUL MATEMATIK TINGKATAN 2

BAB 1 : POLA DAN JUJUKAN

1.1 POLA

Pola ialah aturan atau corak tertentu dalam senarai nombor atau objek.

1	Lukis corak seterusnya bagi gambar rajah di bawah dan nyatakan polanya.			
a	 <p>Pola :</p>	<td>b</td> <td>  <p>Pola :</p> </td>	b	 <p>Pola :</p>
2	Nyatakan pola bagi set nombor yang berikut.			
a	<p>-10, -4, 2, 8, ...</p>  <p>Pola: Menambah 6 kepada nombor sebelumnya.</p>	<td>b</td> <td> <p>(b) 17, 7, -3, -13, ...</p> <p>Pola :</p> </td>	b	<p>(b) 17, 7, -3, -13, ...</p> <p>Pola :</p>
c	<p>2, 6, 18, 54, ...</p> <p>Pola :</p>	<td>d</td> <td> <p>81, 27, 9, 3, ...</p> <p>Pola :</p> </td>	d	<p>81, 27, 9, 3, ...</p> <p>Pola :</p>
e	<p><math>1, \frac{3}{2}, 2, \frac{5}{2}, \dots</math></p> <p>Pola :</p>	<td>f</td> <td> <p>-2.3, -2.6, -2.9, -3.2, ...</p> <p>Pola :</p> </td>	f	<p>-2.3, -2.6, -2.9, -3.2, ...</p> <p>Pola :</p>
g	<p>5, 12, 19, 26, ...</p> <p>Pola :</p>	<td>g</td> <td> <p>-1, -4, -7, -10, ...</p> <p>Pola :</p> </td>	g	<p>-1, -4, -7, -10, ...</p> <p>Pola :</p>