

Lembar Kerja Peserta Didik

(LKPD)

Nama :

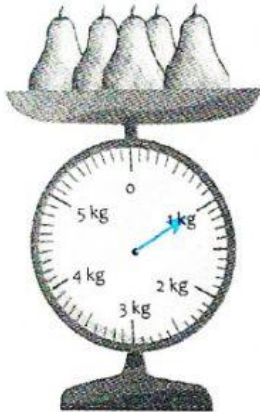
Kelas : 4C

Tujuan Pembelajaran : Membulatkan hasil pengukuran berat

**Tulis hasil pembulatangannya(angka saja)!**

1. Tentukan berat benda berikut dengan pembulatan ke kg terdekat.

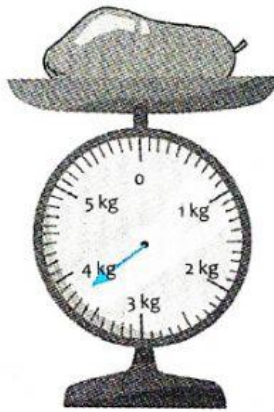
a.



Sumber: Dokumen Penerbit

Berat avokad  
sekitar ... kg.

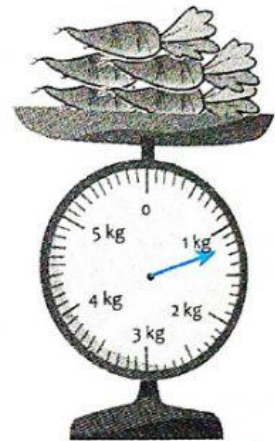
c.



Sumber: Dokumen Penerbit

Berat pepaya  
sekitar ... kg.

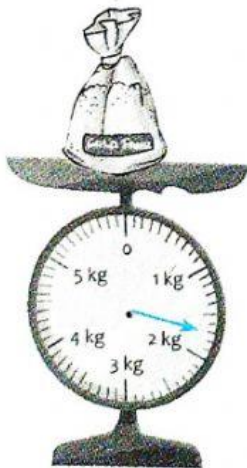
e.



Sumber: Dokumen Penerbit

Berat wortel  
sekitar ... kg.


b.



Sumber: Dokumen Penerbit

Berat gula pasir  
sekitar ... kg.

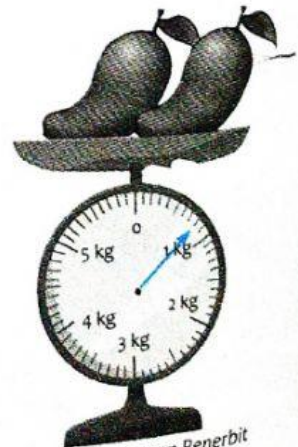
d.



Sumber: Dokumen Penerbit

Berat kentang  
sekitar ... kg.

f.



Sumber: Dokumen Penerbit

Berat mangga  
sekitar ... kg.