

Lembar Kerja Peserta Didik (LKPD)

Nama Peserta Didik :

No absen :

Mapel :

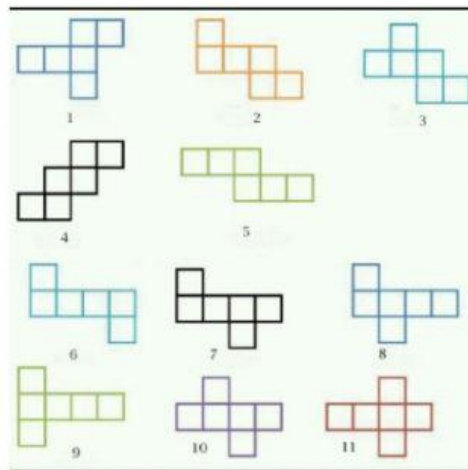
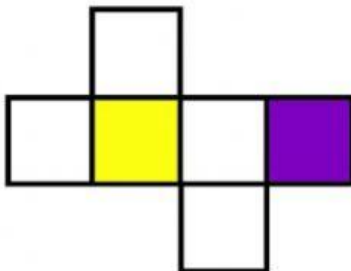
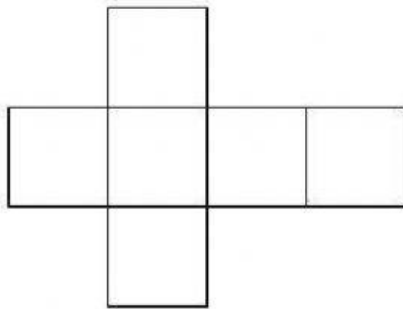
Petunjuk :

Bacalah materi dan kerjakan lembar kerja di bawah ini !

Jaring-jaring Bangun Ruang

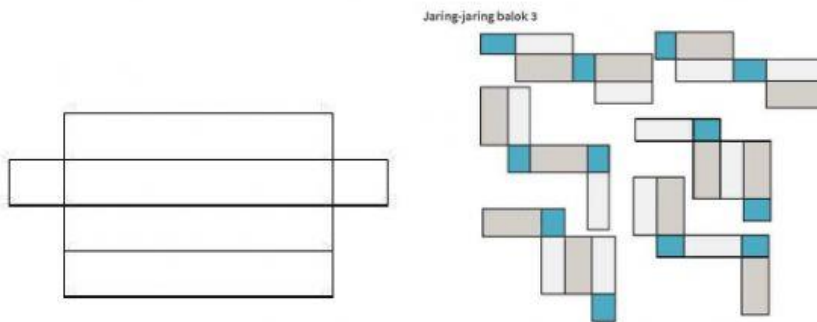
1. Jaring-Jaring Kubus

jaring-jaring kubus adalah model atau pola dari sebuah **bangun ruang kubus** yang berbentuk **bangun datar**. Sisi-sisi pola ini tersambung dengan sisi-sisi lainnya. **Jaring-jaring kubus** terdiri dari enam **bangun datar** persegi atau bujur sangkar

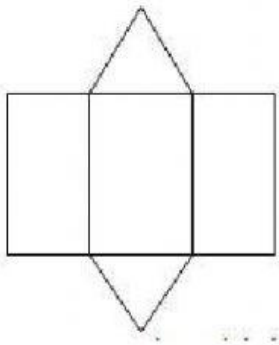


2. Jaring-jaring Balok

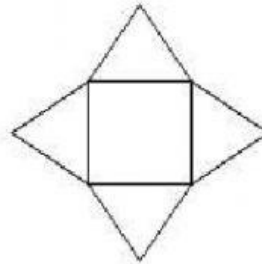
Jaring balok disusun atas bangun persegi panjang



3. Jaring-jaring Prisma

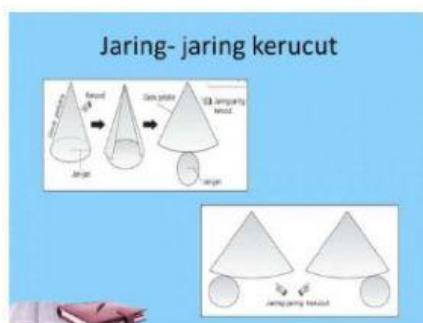


4. Jaring- jaring limas



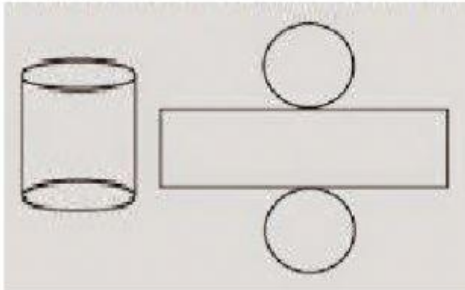
5. KERUCUT

Kita dapat memperoleh **jaring-jaring kerucut**, dengan cara membuka **kerucut** menurut garis pelukisnya. **Jaring-jaring kerucut** terdiri dari sebuah lingkaran dan sebuah juring lingkaran yang berjari-jari garis pelukis, lingkaran berasal dari alas **kerucut**, sedangkan juring lingkaran merupakan selimut **kerucut**.



6. TABUNG

Tabung merupakan **bangun ruang** yang dibatasi oleh 3 buah bidang sisi yaitu sisi alas, sisi atas, dan sisi lengkung. **Jaring-jaring tabung** terdiri atas sisi alas dan sisi atas serta selimut **tabung** yang berbentuk persegi panjang



Agar kalian lebih paham silahkan simak vidio youtub berikut!

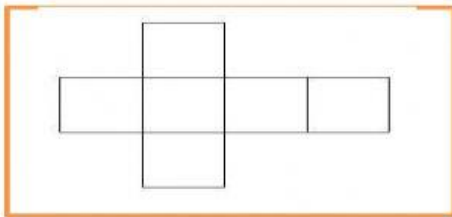
<https://youtu.be/QQexRIItZ98>

Setelah membaca dan menyimak vidio pembelajaran tadi silahkan kerjakan soal- soal di bawah ini dengan benar!

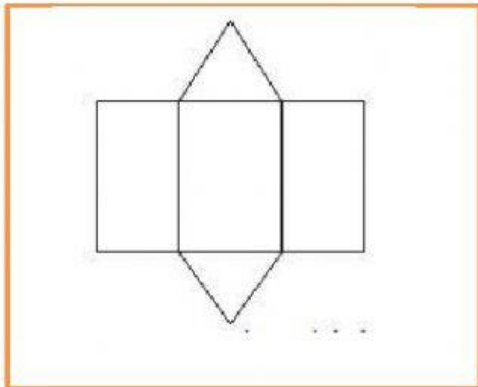
1. Jaring- jaring kubus dibentuk dari bangun datar...
2. 6 buah persegi panjang yang disusun dengan sedemikian rupa akan membentuk jaring- jaring...

Silahkan tarik garis dari lajur kanan ke lajur kiri sehingga menjadi jawaban yang benar !

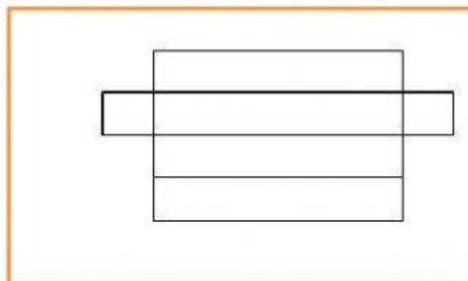
1.



PRISMA SEGITIGA



BALOK



KUBUS

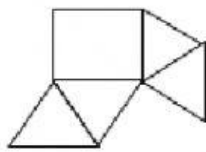
Jawablah soal- soal di bawah ini dengan benar !

1. Gambar di bawah merupakan jaring-jaring limas segi empat adalah...

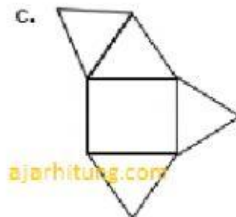
a.



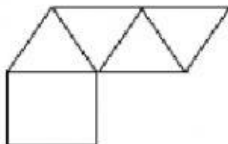
b.



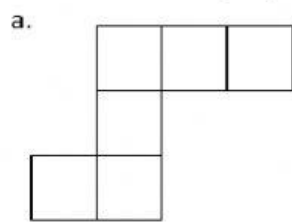
c.



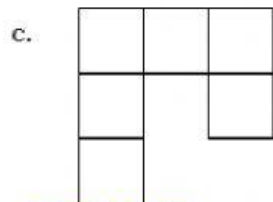
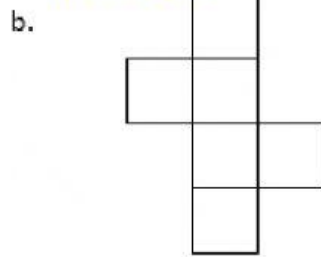
d.



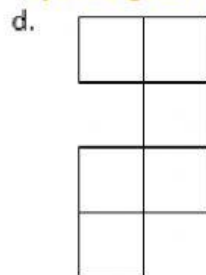
2. Gambar berikut yang merupakan jaring-jaring kubus adalah...



ajarhitung.com



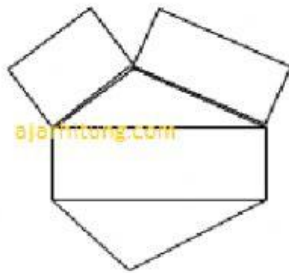
ajarhitung.com



3. Bangun ruang yang terdiri dari 2 buah lingkaran dan 1 buah persegi panjang akan membentuk jaring- jaring bangun ruang...

- a. Kubus
- b. Kerucut
- c. Tabung
- d. Limas segi empat

4. Gambar berikut merupakan jaring-jaring bangun...



- a. Limas segi empat
- b. Kerucut
- c. Tabung
- d. Prisma segitiga