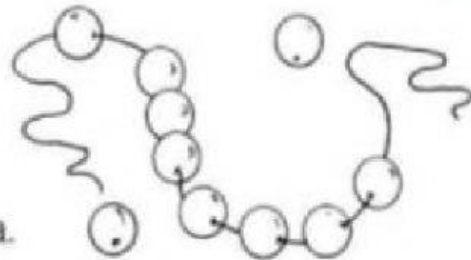


I DATI MANCANTI

LEGGI I PROBLEMI E INDIVIDUA IL DATO MANCANTE RISPONDENDO ALLE DOMANDE.


Luisa ha 75 perle colorate. Monica ha più perle di Luisa. Quante perle ci sono di differenza tra le due amiche?

- ☐ Non conosco gli anni di Monica.
- ☐ Manca il numero di perle di Monica.
- ☐ Non è indicato il numero di perle di Luisa.



In un cinema ci sono 215 posti. Allo spettacolo del 14 ottobre non tutti i posti sono stati occupati. Quanti posti sono rimasti liberi?

- ☐ Non trovo il numero di posti liberi.
- ☐ Manca l'orario di inizio dello spettacolo.
- ☐ Serve il numero dei posti non liberi.



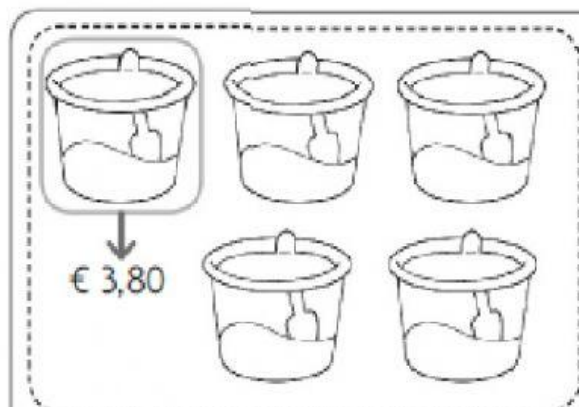
La signora Lucia compra 3 confezioni di brioches al supermercato e 1 scatola di cerotti in farmacia.
Quanto spende al supermercato la signora Lucia?

- ☐ Serve il costo di ogni confezione di brioches.
- ☐ Manca il valore dei soldi che ha la signora Lucia.
- ☐ Manca il prezzo della scatola di cerotti.

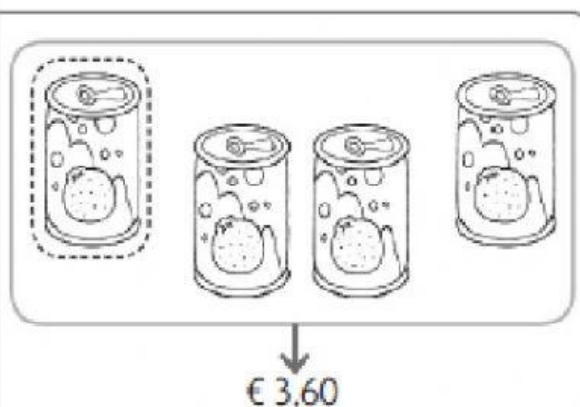


IMMAGINI E PROBLEMI

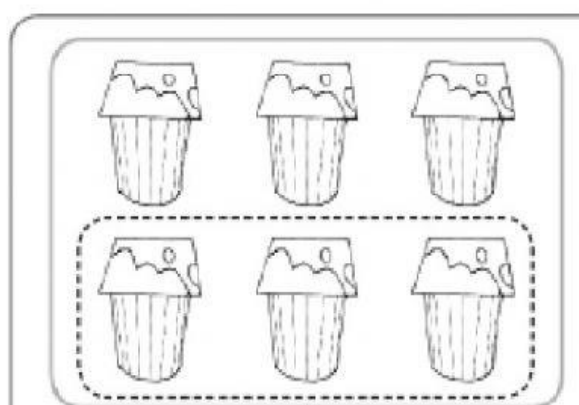
- 1 Osserva con attenzione le rappresentazioni grafiche e leggi i costi. Esegui le operazioni su un foglio e scrivi qui il risultato.



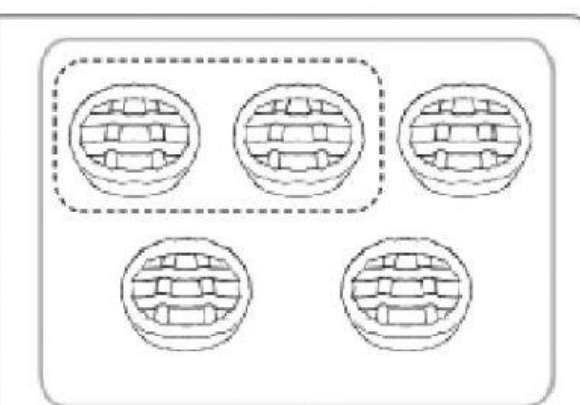
Quanto è il costo totale? _____



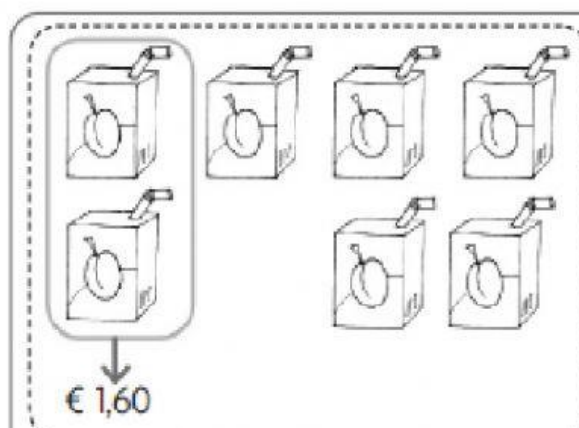
Quanto costa una lattina? _____



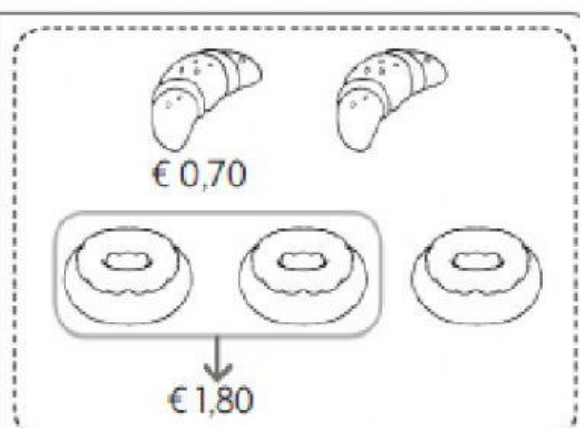
Quanto costano 3 yogurt? _____



Quanto costano 2 tortine? _____



Quanto costano tutti i succhi? _____



Qual è il prezzo totale dei dolci? _____