

LK Pengolahan Data
Kelas 6 SD BOPKRI Gondolayu

Nama :

No :

Pilihlah jawaban yang paling tepat dan tuliskan pada kotak yang tersedia!

1. Pengunjung perpustakaan daerah selama seminggu ada 565 orang. Hari Senin sebanyak 92 orang, hari Selasa dan Rabu banyak pengunjungnya sama, hari Kamis sebanyak 115 orang, hari Jumat sebanyak 84 orang, dan hari Sabtu sebanyak 98 orang.

Tabel yang sesuai untuk data tersebut adalah

A.

Hari	Banyak Pengunjung
Senin	92
Selasa	88
Rabu	88
Kamis	115
Jumat	84
Sabtu	98

B.

Hari	Banyak Pengunjung
Senin	92
Selasa	78
Rabu	78
Kamis	115
Jumat	84
Sabtu	98

C.

Hari	Banyak Pengunjung
Senin	92
Selasa	89
Rabu	89
Kamis	115
Jumat	84
Sabtu	98

D.

Hari	Banyak Pengunjung
Senin	92
Selasa	87
Rabu	87
Kamis	115
Jumat	84
Sabtu	98

2. Perhatikan tabel berat badan siswa SD Maju berikut ini!

Berat badan (kg)	25	26	27	28	29	30
Banyak siswa	20	35	25	35	25	15

Siswa yang memiliki berat badan lebih dari 27 kg ada

- A. 87 siswa
B. 85 siswa
C. 75 siswa
D. 55 siswa

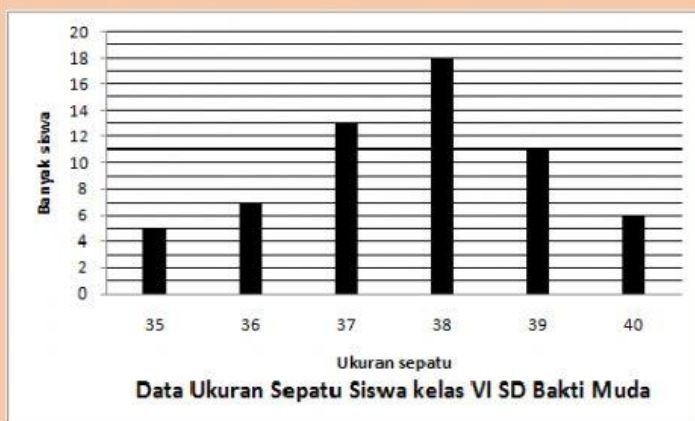
3. Perhatikan tabel berikut!

Tabel ukuran sepatu siswa kelas VI SD Bakti Muda sebagai berikut :

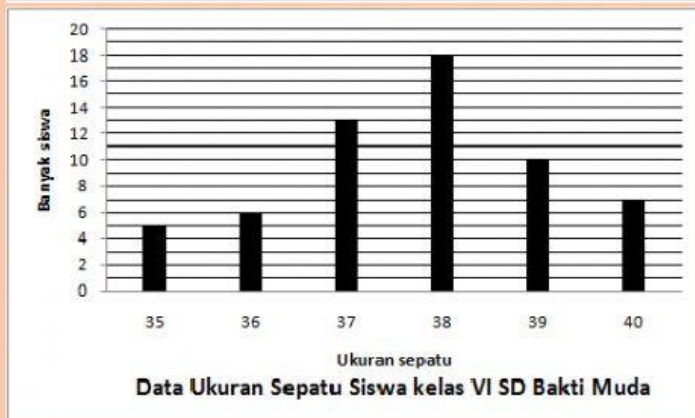
Ukuran sepatu	35	36	37	38	39	40
Banyak siswa	5	7	13	18	10	6

Diagram yang sesuai dengan tabel tersebut adalah

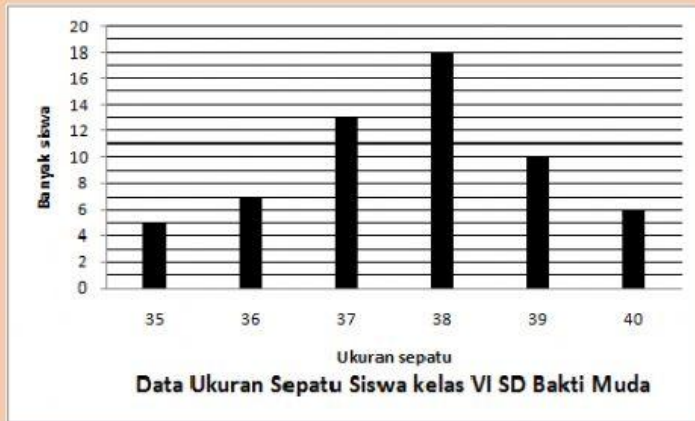
- A.



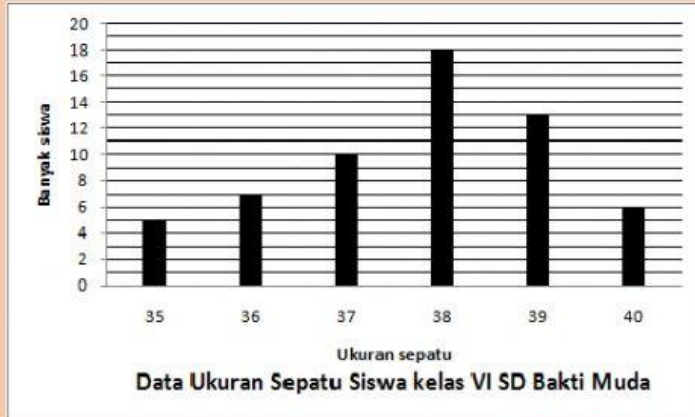
- B.



C.



D.



4. Perhatikan tabel berikut!

Tabel data pekerjaan orangtua siswa kelas VI SD Tunas Bangsa sebagai berikut :

Pekerjaan	Dosen	TNI/ POLRI	Karyawan	Wiraswasta	Dokter	Guru
Banyak Orangtua	5	7	12	5	2	3

Diagram yang sesuai dengan tabel tersebut adalah

A.



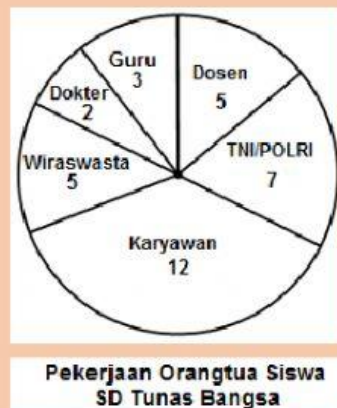
B.



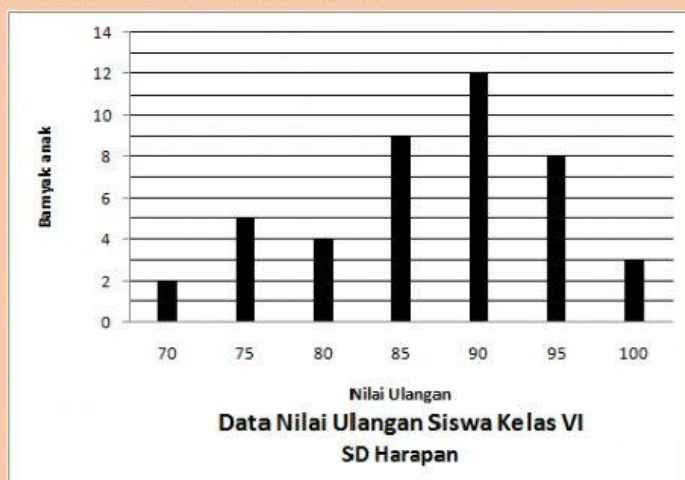
C.



D.



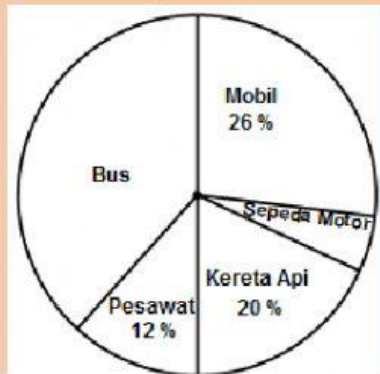
5. Perhatikan diagram berikut ini!



Banyak anak yang mendapat nilai ulangan tertinggi adalah

- A. 3
- B. 4
- C. 8
- D. 10

6. Perhatikan diagram berikut!



Data Angkutan Lebaran 2015

Banyak penumpang bus dan sepeda motor adalah

- A. 30%
- B. 38%
- C. 42%
- D. 45%

7. Data 130 ekor hewan piaraan sebagai berikut:

Sapi 24 ekor, kelinci 20 ekor, kambing 30 ekor, ayam 45, dan sisanya itik. Modus dari data tersebut adalah ...

- A. kambing
- B. kerbau
- C. ayam
- D. itik

8. Banyak ternak sapi Desa Jaya 182. Desa Maju 193, Desa Makmur 173, Desa Sembada 92 dan Desa Mulya 180. Rata-rata ternak masing-masing desa adalah

- A. 128
- B. 154
- C. 164
- D. 820

9. Taman Nasional Gunung Merapi melakukan reboisasi di lereng Merapi. Sebanyak 3.000 bibit dari berbagai jenis pohon ditanam. Sebanyak 654 bibit Pohon Sengon, 457 bibit Pohon Cemara, 568 bibit Pohon Trembesi, 688 bibit Pohon Akasia, dan sisanya bibit Pohon Mahoni. Modus dari jenis pohon yang ditanam adalah bibit. [REDACTED]
- A. Pohon Mahoni
B. Pohon Akasia
C. Pohon Sengon
D. Pohon Trembesi

10. Perhatikan diagram berikut!



Banyak burung Nuri ada 140 anak, maka banyaknya Burung Merpati dan Burung Kutilang ada . [REDACTED]

- A. 15
B. 85
C. 90
D. 175