





# ADDIZIONI E SOTTRAZIONI CON IL DENARO

**1** Calcola il totale delle seguenti somme di denaro.

 <p>€ _____</p>	 <p>€ _____</p>
 <p>€ _____</p>	 <p>€ _____</p>

In ogni riquadro è indicato il costo di un oggetto e il denaro con cui viene effettuato il pagamento. Calcola il resto.

<p><b>2</b></p>  <p>€ 0,35</p>	<p>Si paga con questa moneta:</p>  <p>Resto € _____</p>	 <p>€ 1,58</p>	<p>Si paga con questa moneta:</p>  <p>Resto € _____</p>
<p><b>3</b></p>  <p>€ 5,40</p>	<p>Si paga con questa banconota:</p>  <p>Resto € _____</p>	 <p>€ 32,50</p>	<p>Si paga con questa banconota:</p>  <p>Resto € _____</p>